






ใบงานคณิตศาสตร์ ป. 5: สนุกกับรูปสี่เหลี่ยม (Fun with Quadrilaterals)

ชื่อ-นามสกุล: _____ ชั้น: _____ เลขที่: _____

1 รู้จักชื่อรูปสี่เหลี่ยม

เขียนชื่อรูปสี่เหลี่ยมลงในช่องว่าง

 <p>สี่เหลี่ยมจัตุรัส</p> <p>Square</p> <p>ชื่อ: _____</p>	 <p>สี่เหลี่ยมผืนผ้า</p> <p>Rectangle</p> <p>ชื่อ: _____</p>	 <p>สี่เหลี่ยมด้านขนาน</p> <p>Parallelogram</p> <p>ชื่อ: _____</p>	 <p>สี่เหลี่ยมขนมเปียกปูน</p> <p>Rhombus</p> <p>ชื่อ: _____</p>	 <p>สี่เหลี่ยมคางหมู</p> <p>Trapezoid</p> <p>ชื่อ: _____</p>
---	---	---	---	---








2 สมบัติของรูปสี่เหลี่ยม

ทำเครื่องหมายถูก (✓) หรือ ผิด (✗) หน้าข้อความ

- สี่เหลี่ยมจัตุรัสมีด้านทุกด้านยาวเท่ากัน
- สี่เหลี่ยมผืนผ้ามีมุมทุกมุมเป็นมุมฉาก
- สี่เหลี่ยมคางหมูมีด้านขนานกัน 2 คู่
- สี่เหลี่ยมด้านขนานมีด้านตรงข้ามขนานกัน
- สี่เหลี่ยมขนมเปียกปูนมีมุมทุกมุมเป็นมุมฉาก
- สี่เหลี่ยมผืนผ้ามีด้านตรงข้ามยาวเท่ากัน

3 ตามหารูปสี่เหลี่ยมในชีวิตประจำวัน

โยงเส้นจับคู่ภาพกับรูปสี่เหลี่ยมที่ถูกต้อง

โทรทัศน์			สี่เหลี่ยมจัตุรัส
กระเบื้องปูพื้น			สี่เหลี่ยมผืนผ้า
กล่องของขวัญ			สี่เหลี่ยมคางหมู
เต็นท์			

คะแนน: _____

เก่งมาก! พยายามต่อไปนะ