

# ΜΑΘΗΜΑΤΙΚΑ

Β' ΔΗΜΟΤΙΚΟΥ

3

α) Γράφω τους αριθμούς που αναπαριστούν οι κύβοι. Έπειτα βάζω ένα από τα σύμβολα  $<$ ,  $>$ ,  $=$  για να δείξω τη σχέση τους.

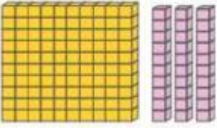
	---	<input type="text"/>	---	
	---	<input type="text"/>	---	
	---	<input type="text"/>	---	
	---	<input type="text"/>	---	

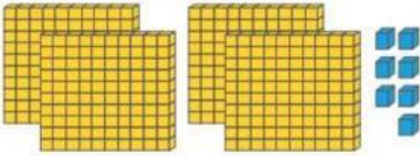


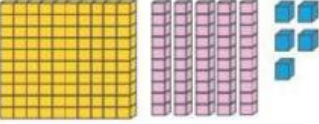
β) Βάζω τους αριθμούς που βρήκα σε αύξουσα σειρά από τον μικρότερο στον μεγαλύτερο.

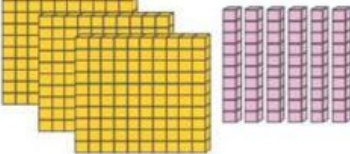
..... < ..... < ..... < ..... < ..... < .....


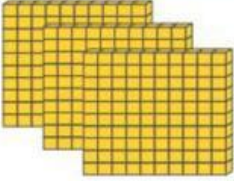
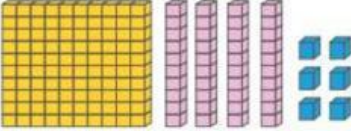
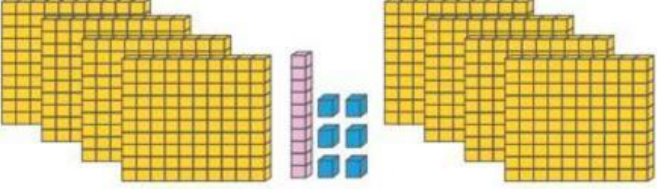
Αναγνωρίζω τον αριθμό που αναπαριστούν οι κύβοι.

α 

β 

γ 

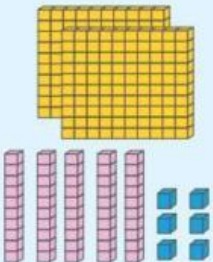
δ 

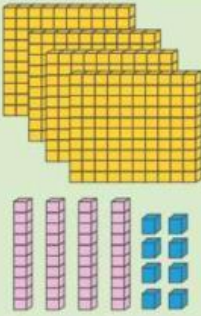
 <input type="text"/>	 <input type="text"/>
 <input type="text"/>	 <input type="text"/>



Συμπληρώνω :




  
 ..... Εκατοντάδες  
 ..... Δεκάδες και Μονάδες


  
 ..... Εκατοντάδες  
 ..... Δεκάδες και Μονάδες

Εκατοντάδες	Δεκάδες	Μονάδες

Εκατοντάδες	Δεκάδες	Μονάδες

..... + ..... + ..... = .....

..... + ..... + ..... = .....