




EVALUACIÓN TRIMESTRAL PERIODO I GRADO PRIMERO – JORNADA TARDE - 2026

PREGUNTAS COMUNICACIÓN



Nota: para la prueba de grado primero se debe introducir textos en audio para dar las indicaciones, esto se hace según el tipo de plataforma que se utilice.



"Mi Parque en la Ciudad"

1. Observa la siguiente imagen durante un minuto antes de empezar.







1. Escucha con atención: ¿De qué color es el rodadero donde juegan los niños en la imagen?





- A. 
- B. 

- C. 
- D. 

2. En el parque de nuestra ciudad, ¿qué elementos de la naturaleza nos dan sombra y aire puro según la imagen?

- A. 
- B. 
- C. 
- D. 

3. Observa las caras de los niños en el dibujo. ¿Cómo se sienten al compartir y jugar en su ciudad?

- A. 
- B. 
- C. 
- D. 

PREGUNTAS PENSAMIENTO LÓGICO MATEMÁTICO

ESCUCHA CON ATENCIÓN EL SIGUIENTE TEXTO.

PARQUE SIMÓN BOLÍVAR DE BOGOTÁ

El Parque Simón Bolívar es un parque grande de Bogotá.

Muchas familias van a caminar, jugar y descansar.

El parque se empezó a construir hace más de 50 años.

En el parque hay un lago grande para pasear en bote.

En una zona hay 28 árboles que dan sombra.

Un día llegaron 34 niños a jugar en el parque.


En el lago hay muchos botes.

El parque tiene el nombre de Simón Bolívar, un héroe importante.



Ahora escucha y contesta las siguientes preguntas:

1. En el parque hay 28 árboles.
Si siembran 10 árboles más.



¿cuántos árboles hay ahora?

Cuenta y selecciona la respuesta correcta.

- A. 30
 - B. 38
 - C. 18
 - D. 20
2. En el Parque Simón Bolívar algunos niños vieron una ranita dando saltos cerca al lago:

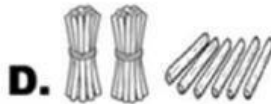
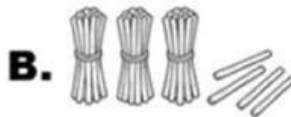
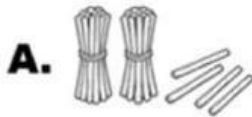
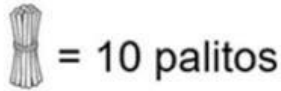


¿Cuántos metros avanza la rana en cada salto?

- A. 2 metros
- B. 4 metros
- C. 6 metros
- D. 8 metros

3. Un día llegaron 34 niños a jugar en el Parque.

Selecciona la representación correcta en manojos y palitos del número de niños que llegaron al parque, teniendo en cuenta que:



PREGUNTAS PENSAMIENTO CIENTÍFICO

Juan tiene un pequeño jardín en su casa.


Allí hay flores, una mariposa y un árbol.

Juan riega las plantas todos los días con agua para que crezcan sanas.

Un día, vio que la mariposa volaba de flor en flor buscando alimento.

1. ¿Qué tiene Juan en su casa?

- A.
- B.
- C.
- D.



2. ¿Qué usa Juan para cuidar las plantas?

- A. 🔥
- B. 💧
- C. 🪨
- D. 🍷

3. ¿Qué hacía la mariposa?

- A. 🦋 ➡️ 🌸 🌸
- B. 🦋 😊
- C. 🦋 🌊
- D. 🦋 🍷

PREGUNTAS SOCIOCULTURAL

Observa las siguientes imágenes y responde:



1. ¿En dónde debes seguir normas y tener un buen comportamiento?

- A. En ningún lugar
- B. En mi barrio
- C. En mi colegio
- D. En todos los lugares: Colegio, familia y barrio.

2. ¿A qué lugar perteneces y puedes ir a aprender todos los días?

- A. Al colegio
- B. Al zoológico
- C. Al supermercado
- D. A cine

3. Todos somos diferentes, y merecemos respeto. ¿En cuál de las imágenes encuentras ancianos, niños y bebés?

- A. En el colegio
- B. En el barrio
- C. En ninguna
- D. En la familia.

PREGUNTAS INGLÉS

PRUEBA TRIMESTRE I - 2026

Nota: para la prueba de grado primero se debe introducir audios para dar las indicaciones, esto se hace según el tipo de plataforma que se utilice.

1. *What is he using?*



- A. Toothbrush
- B. Soap
- C. Shampoo
- D. Mirror.

2. *Where do you use a toothbrush?*

A. home



B. school



C. park

