



**COLEGIO METODISTA – PRIMARIA**  
**DEPARTAMENTO DE ESPAÑOL**  
**PRIMER PARCIAL DE MATEMÁTICA – PRIMER SEMESTRE 2021**  
**SEGUNDO GRADO- PROFESOR: ARELYS FUENTES FALCÓN**

**Tiempo estimado: 30 minutos**

**Total: 24 puntos**

**Porcentaje: 10%**

Tipo de prueba: Ordinaria ☒

**Nombre:** \_\_\_\_\_

**Fecha: 22 / 25 de marzo 2021**

**Grupo 2-** \_\_\_\_\_

**Instrucciones Generales**

1. Escuche las instrucciones de su docente.
2. Pida la palabra para aclarar dudas.
3. No hacer tachones, cuidar el orden y el aseo de su prueba.
4. Revisar la prueba antes de enviarla.
5. Marque como completada la asignación en Google Classroom cuando su maestra le confirme que ha recibido el documento.

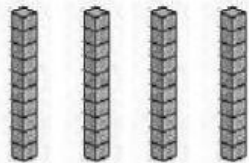
**Servicios de Apoyo aplicados durante la prueba:**

Se realiza lectura de las instrucciones con el estudiante.	
Se leen y explican las preguntas para ubicar al estudiante con el objetivo propuesto.	
Se revisa que el estudiante entregue la prueba completa.	
Se brinda tiempo adicional para resolver la prueba (de 30 a 40 minutos).	
Otro:	

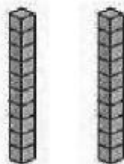
## I PARTE. RESPUESTA CORTA. ( 15 PUNTOS)

A. Observe los elementos colocados en la caja de valores y anote el número que representan. Utilice los espacios debajo de cada caja para escribir.( 6 puntos)


1.

Decenas	Unidades
	


2.

Decenas	Unidades
	


3.

Decenas	Unidades
	


4.

Decenas	Unidades
	

5.

Decenas	Unidades
	

6.

Decenas	Unidades
	

B. Anote en el espacio de la derecha de cada número, el nombre que lo identifica. (3 puntos)

7. 

9
---

 \_\_\_\_\_

8. 

10
----

 \_\_\_\_\_

9. 

5
---

 \_\_\_\_\_

C. Escriba correctamente el número que corresponde a cada palabra. (4 puntos)

10. 

uno
-----

 \_\_\_\_\_

11. 

dos
-----

 \_\_\_\_\_

12. 

cuatro
--------

 \_\_\_\_\_

13. 

cero
------


 \_\_\_\_\_

14. Mauricio debe llevar a la escuela una decena de vasos. ¿Cuántos vasos tiene que llevar? ( 1 punto)



Tiene que llevar \_\_\_\_\_ vasos.

15. Anote los números que faltan para completar la serie numérica.  
( 1 punto)



## II PARTE. CORRESPONDENCIA. (9 PUNTOS)

16. Relacione con una línea el número en la **Columna A** con su sucesor en la **Columna B**. Sobra una opción en la Columna B. ( 4 puntos)

### Columna A

1 ●

3 ●

5 ●

0 ●

### Columna B

● 6

● 2

● 7

● 4

● 1

17. Relacione con una línea el número en la **Columna B** con su antecesor en la **Columna A**. No sobran opciones. ( 5 puntos)

Columna A

9 ●

3 ●

6 ●

0 ●

8 ●

Columna B

● 9

● 10

● 7

● 1

● 4