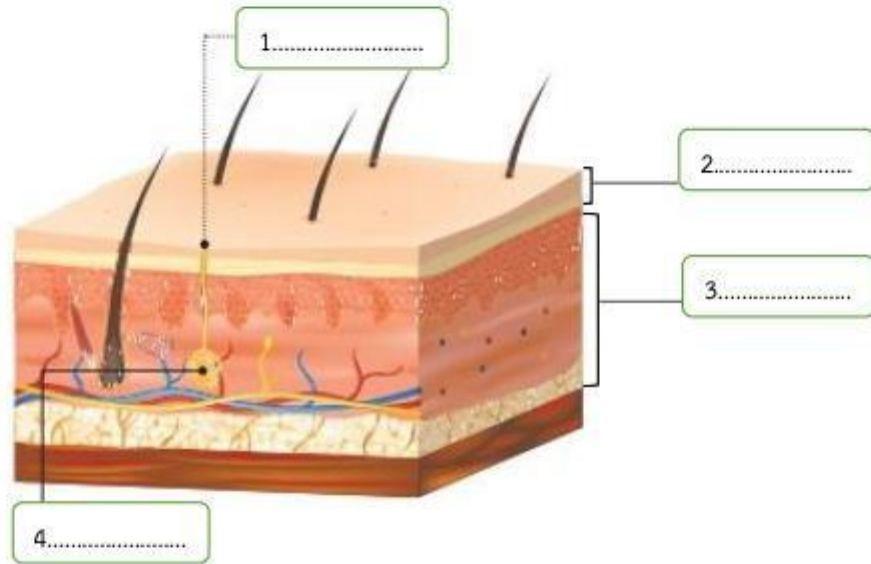


ใบงานที่ 11  
 อวัยวะอื่นกับการรักษาตุลยภาพของร่างกาย

คำชี้แจง ตอนที่ 1 ให้นักเรียนเติมชื่อโครงสร้างของผิวหนังตามหมายเลขให้ถูกต้อง




คำชี้แจง ตอนที่ 2 ให้นักเรียนเติมเต็มข้อความลงในสมการ การแลกเปลี่ยนแก๊สให้ถูกต้อง


สมการ การแลกเปลี่ยนแก๊ส

CO<sub>2</sub> +  
 คาร์บอนไดออกไซด์

H<sub>2</sub>O  
 น้ำ



H<sup>+</sup>  
 ไฮโดรเจน  
 ไอออน



คำชี้แจง ตอนที่ 3 ให้นักเรียนเติมข้อความลงในกลไกแลกเปลี่ยนแก๊สให้ถูกต้อง

