

A. Kegiatan Enaktif

MENGENAL BUAH

Perhatikan gambar buah di bawah ini.
Sebutkan nama buah tersebut dengan mengucapkan jawabannya (dengan bantuan orangtua/guru).



MENGENAL BUAH

Perhatikan gambar buah di bawah ini.
Sebutkan Jumlah buah tersebut dengan mengucapkan
jawabannya (dengan bantuan orangtua/guru).



BERHITUNG BUAH

Perhatikan gambar buah di bawah ini.



Mari Pindahkan buah ke dalam keranjang yang kosong sambil berhitung



B. KEGIATAN IKONIK

Perhatikan gambar buah di bawah ini.

Sebutkan Jumlah buah tersebut dengan mengucapkan jawabannya (dengan bantuan orangtua/guru).



KEGIATAN MENARIK DAN MENGHITUNG BUAH

Perhatikan gambar buah di bawah ini.

Mari menghitung buah dan memasukkannya ke keranjang (dengan bantuan orangtua/guru).



6



7



8



9



10

KEGIATAN MENGHITUNG BUAH

Perhatikan gambar buah di bawah ini.

Mari menghitung buah dan memasukkannya ke keranjang
(dengan bantuan orangtua/guru).




Ibuk Tina Ingin Membeli apel 6 tetapi apel
dikeranjang pak tani hanya ada 2. berapakah
apel yang harus dipanen oleh pak tani




BELAJAR PENGURANGAN


Hitunglah jumlah buah yang busuk, kemudian hubungkan sesuai jumlahnya dengan cara menarik garis!




8



10



6



9



7

C. Kegiatan Simbolik

URUTKAN ANGKA

Perhatikan gambar buah di bawah ini.
Susunlah menjadi urutan yang benar dari
1 sampai 10.








URUTKAN ANGKA

Perhatikan gambar buah di bawah ini.
Susunlah menjadi urutan yang benar dari
11 sampai 20.



COCOKKAN ANGKA

Perhatikan angka dan gambar buah di bawah ini.
Tarik garis untuk menghubungkan angka
dengan jumlah buah yang sesuai.

	•	•	2
	•	•	1
	•	•	3
	•	•	4
	•	•	6

SOAL CERITA

Baca cerita di bawah ini.

Kemudian hitung dan tuliskan jawabannya.


Ani punya 2 apel   , lalu diberi 1 apel lagi  .



Jadi, jumlah apel Ani sekarang =

Budi punya 3 pisang    , lalu dimakan



1 pisang  . Sisa pisang Budi =

Siti punya 1 jeruk  , lalu diberi 2 jeruk lagi  



Jadi, jumlah jeruk Siti sekarang =



Andi punya 4 anggur     , lalu dimakan



2 anggur   . Sisa anggur Andi =

Rina punya 2 alpukat   dan diberi 2 alpukat



  lagi. Jadi, jumlah alpukat Rina sekarang =

PENJUMLAHAN

Perhatikan gambar buah di bawah ini.

Hitung dengan benar, lalu tuliskan jawabannya.

$$\begin{array}{c} \text{Pineapple} \\ \text{2} \end{array} + \begin{array}{c} \text{Pineapple} \\ \text{3} \end{array} = \begin{array}{c} \text{Pineapple} \\ \text{ } \end{array}$$

$$\begin{array}{c} \text{Apple} \\ \text{1} \end{array} + \begin{array}{c} \text{Apple} \\ \text{4} \end{array} = \begin{array}{c} \text{Apple} \\ \text{ } \end{array}$$

$$\begin{array}{c} \text{Orange} \\ \text{3} \end{array} + \begin{array}{c} \text{Orange} \\ \text{2} \end{array} = \begin{array}{c} \text{Orange} \\ \text{ } \end{array}$$

$$\begin{array}{c} \text{Watermelon} \\ \text{5} \end{array} + \begin{array}{c} \text{Watermelon} \\ \text{1} \end{array} = \begin{array}{c} \text{Watermelon} \\ \text{ } \end{array}$$

$$\begin{array}{c} \text{Pear} \\ \text{2} \end{array} + \begin{array}{c} \text{Pear} \\ \text{2} \end{array} = \begin{array}{c} \text{Pear} \\ \text{ } \end{array}$$

PENGURANGAN

Perhatikan gambar buah di bawah ini.
Hitung dengan benar, lalu tuliskan jawabannya.

