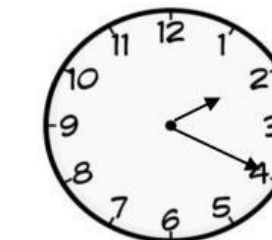






ورقه عمل الوقت
ب خمس دقائق

السؤال الأول: اكتب الوقت الظاهر أمامك .



السؤال الثاني: حل يا صغيري المسألة التالية. challenge

تستغرق السيارة في طريقها إلى حديقة الزهور 30 دقيقة. إذا انطلقت السيارة الساعة 3. فمتى ستصل السيارة إلى الحديقة؟ (اختر الإجابة الصحيحة)

B- 3 : 30

A- 4:25