


SUMA Y RESTA



INSTRUCCIÓN: OBSERVA LAS OPERACIONES DE SUMA Y RESTA QUE APARECEN EN EL TABLERO, ANALICE Y LUEGO SELECCIONA LA RESPUESTA CORRECTA.

Three math problems on a chalkboard:

- Three pairs of dogs (one black and white, one brown) with plus signs and an equals sign.
- Three Minions with a minus sign, two cats, and an equals sign.
- Two groups of five ice cream cones with a plus sign and an equals sign.




10

1

6


SUMA Y RESTA



INTRUCCION: VEA Y ANALICE LA OPERACIÓN, LUEGO SELECCIONE SI LA RESPUESTA ES VERDADERA O FALSO.


$$4+4=3$$


$$5+2=6$$


$$3-3=6$$

$$2+2=4$$


$$10-5=5$$


$$6-2=1$$


$$7+1=8$$

$$3+6=9$$

SUMA Y RESTA



INTRUCCIONES: OBSERVE LAS OPERACIONES DE SUMA Y RESTA Y RELLENE EN CUADRO MORADO CON LA RESPUESTA CORRECTA.



8	-	4	=	
3	+		=	6
	-	6	=	4
5	+	5	=	
1	+	6	=	
6	-		=	3
	+		=	2
9	-	3	=	

