

# LKPD



LEMBAR KERJA PESERTA DIDIK

**TEMA : PLANET DAN TATA SURYA**

**SMP/MTS Kelas VII  
Semester Genap**

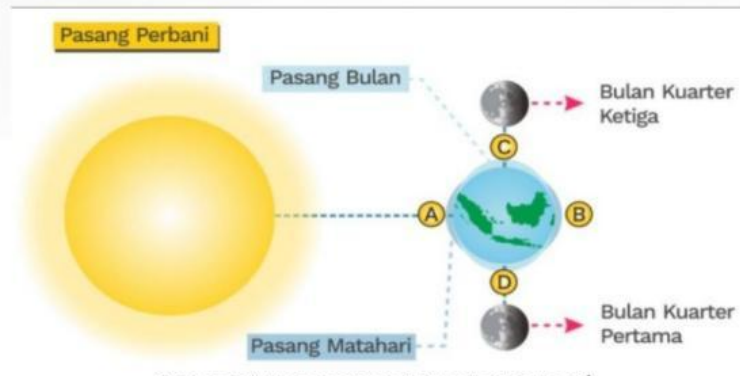
Nama : \_\_\_\_\_

Kelas : \_\_\_\_\_



## 2) Pasang Perbani

Pasang perbani yaitu ketika permukaan air laut turun serendah-rendahnya. Pasang ini terjadi pada saat Bulan kuartir pertama dan kuartir ketiga. Pasang perbani dipengaruhi oleh gravitasi Bulan dan Matahari yang saling tegak lurus (titik C atau titik D).



**Gambar 40. Fenomena Pasang Perbani**

Sumber : Lina & Rangga (2020)



Lengkapilah data karakteristik planet sebagai berikut dengan tepat!

Karakteristik	
Massa	
Satelit	
Diameter	
Suhu Permukaan	
Periode Rotasi	
Periode Revolusi	
Jarak dari Matahari	



.....



.....

Karakteristik	
Massa	
Satelit	
Diameter	
Suhu Permukaan	
Periode Rotasi	
Periode Revolusi	
Jarak dari Matahari	