

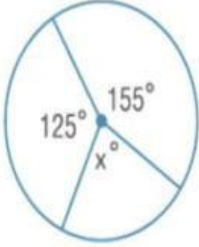
ورقة عمل

مادة الرياضيات / الصف الحادي عشر عام

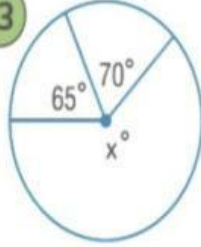
اسم الطالب:

أوجد قيمة x :

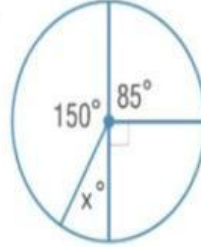
12.



13



14.



15.

