














التمثيلات البيانية بالصور

 فراولة					
 برتقال					
 تفاح					

استخدام التمثيل البياني في الإجابة عن الأسئلة

1. كم ينقص عدد من اختاروا التفاح عن من اختاروا البرتقال؟ _____

2. كم شخصًا شارك في استطلاع الرأي؟ _____