














التمثيلات البيانية بالصور

 فراولة					
 برتقال					
 تفاح					

استخدام التمثيل البياني في الإجابة عن الأسئلة

1. هل من اختاروا التفاح أقل أم من اختاروا الفراولة؟ _____
2. كم يزيد عدد من اختاروا الفراولة عن من اختاروا البرتقال؟ _____