

1.1 Relación de suma de un valor constante

En un torneo de fútbol, el equipo B anotó **5 goles más** que el equipo A.

a. Completa la tabla:

Equipo A (goles)	2	4	6	8	10
Equipo B (goles)					

b. Si el equipo A se representa con , ¿cómo se representa el equipo B?


 + _____


Ejercicio 2

En una competencia, el equipo B obtuvo **3 puntos menos** que el equipo A.

a. Completa la tabla:

Equipo A (puntos)	15	18	21	24	27
Equipo B (puntos)					

b. Si el equipo A es , ¿cómo representas al equipo B?

 + _____

Ejercicio 3

En un juego, el equipo B consiguió **el doble de puntos** que el equipo A.

a. Completa la tabla:

Equipo A (puntos)	3	5	7	9	11
Equipo B (puntos)					

b. Si el equipo A es , ¿cómo se representa el equipo B?


 + _____

Ejercicio 4

En una carrera, el equipo B recorrió **2 km más** que el equipo A.

a. **Completa la tabla:**

Equipo A (km)	1	3	5	7	9
Equipo B (km)					

b. Si el equipo A es , ¿cómo representas al equipo B?

 + _____


Ejercicio 5

En un concurso, el equipo B obtuvo **el triple de puntos** que el equipo A.

a. **Completa la tabla:**

Equipo A (puntos)	2	4	6	8	10
Equipo B (puntos)					

b. Si el equipo A se representa con , ¿cómo se representa el equipo B?

 + _____