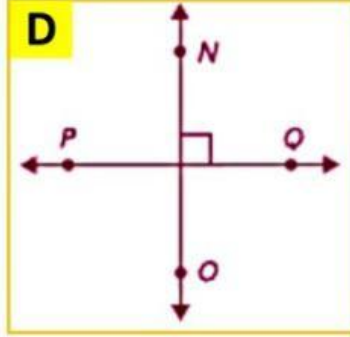
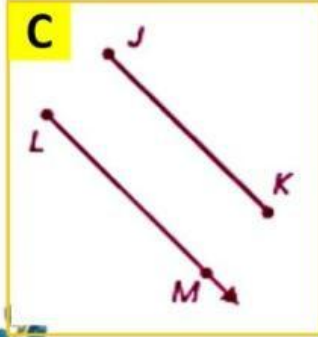
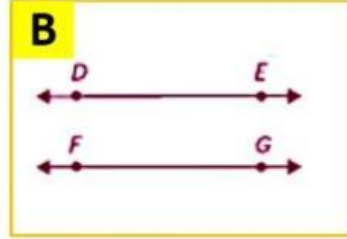
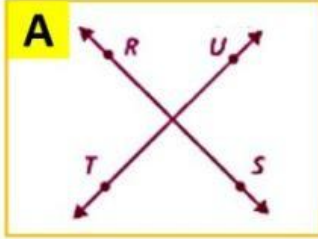


الوحدة 12 : الدرس 2 :

رسم المستقيمات
المتوازية والمتعامدة
ناتج التعلم :

رسم المستقيمات
المتوازية و المتقاطعة و
المتعامدة و تحديدها في
الأشكال ثنائية الأبعاد



صل كل مما يلي
بالرسم المناسب

$$\overleftrightarrow{DE} \parallel \overleftrightarrow{FG} \text{ .4}$$

$$\overleftrightarrow{RS} \text{ يتقاطع مع } \overleftrightarrow{TU} \text{ .5}$$

$$\overleftrightarrow{NO} \perp \overleftrightarrow{PQ} \text{ .6}$$

$$\overleftrightarrow{JK} \parallel \overleftrightarrow{LM} \text{ .7}$$