

ACTIVIDAD DE COMPUTACION

NOMBRE Y APELLIDO:

1.-INDICA CUAL DE LAS 3 ALTERNATIVAS ES EL ORDEN CORRECTO DE ALMACENAMIENTO DE MENOR A MAYOR:

DISPOSITIVO DE ALMACENAMIENTO.



tarjeta de memoria



pendrive



disco duro portatil



CD

a) DISCO DURO PORTATIL
TARJETA DE MEMORIA
USB
CD

b) CD
DISCO DURO PORTATIL
TARJETA DE MEMORIA
USB

c) CD
TARJETA DE MEMORIA
USB
DISCO DURO PORTATIL

2.- Escribe los nombres de los dispositivos de almacenamiento.




3.-SEÑALA EL NOMBRE DE CADA IMAGEN:




4.-ESCRIBE E INDICA EN LAS IMÁGENES MEDIANTE NÚMEROS (1,2,3,4,5,.....)EL ORDEN EN EL CUAL HAN APARECIDO LOS DISPOSITIVOS DE ALMACENAMIENTO HASTA LA ACTUALIDAD:




disco duro portátil




Disquete



CD



DVD



Cinta magnetica



pendrive

