

LEMBAR KERJA PESERTA DIDIK DIGITAL

KOMPETENSI DASAR

3.6. Menganalisis dinamika hidrosfer dan dampaknya terhadap kehidupan

MATERI PERAIRAN DARAT

NAMA	:	
SEKOLAH	:	
KELAS	:	

A. BERILAH KETERANGAN BENAR-SALAH PADA PERNYATAAN BERIKUTTERKAIT AIR TANAH!

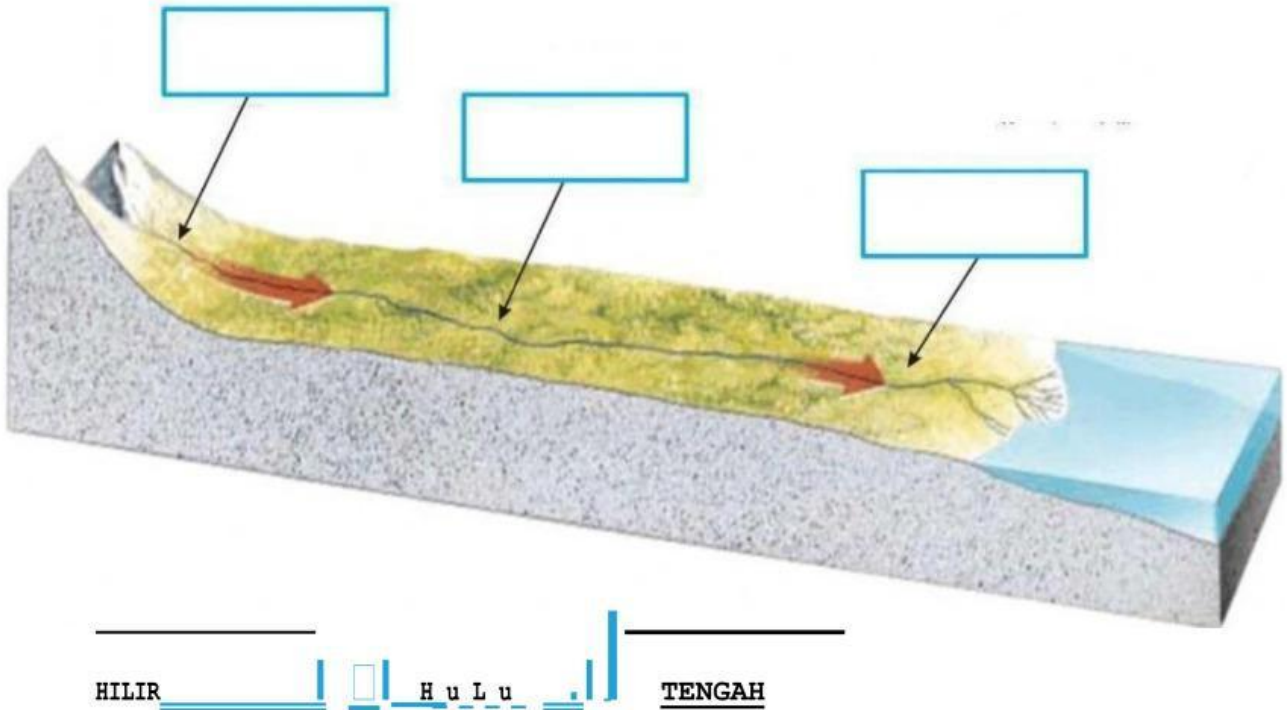
AIR TANAH YANG TERPERANGKAP DALAM RONGGA-RONGGA BATUAN DAN TETAP TINGGAL DALAM BATUAN SEJAK PENIMBUNAN TERJADI	BENAR
	SALAH

AIR TANAH JUVENIL MERUPAKAN AIR TANAH YANG TERBENTUK DI DEKAT PESISIR YANG JAUH DARI GUNUNG API	BENAR
	SALAH

AIR TANAH YANG TERSIMPAN DI DALAM PERUT BUMI, SEPERTI AIR YANG TERSIMPAN DI DALAM BATUAN SEDIMEN	BENAR
	SALAH

AIR SUMUR YANG SERING DIGUNAKAN MASYARAKAT PEDESAAN DENGAN MENGGUNAKAN TIMBA TERMASUK JENIS AIR TANAH FREATIS	BENAR
	SALAH

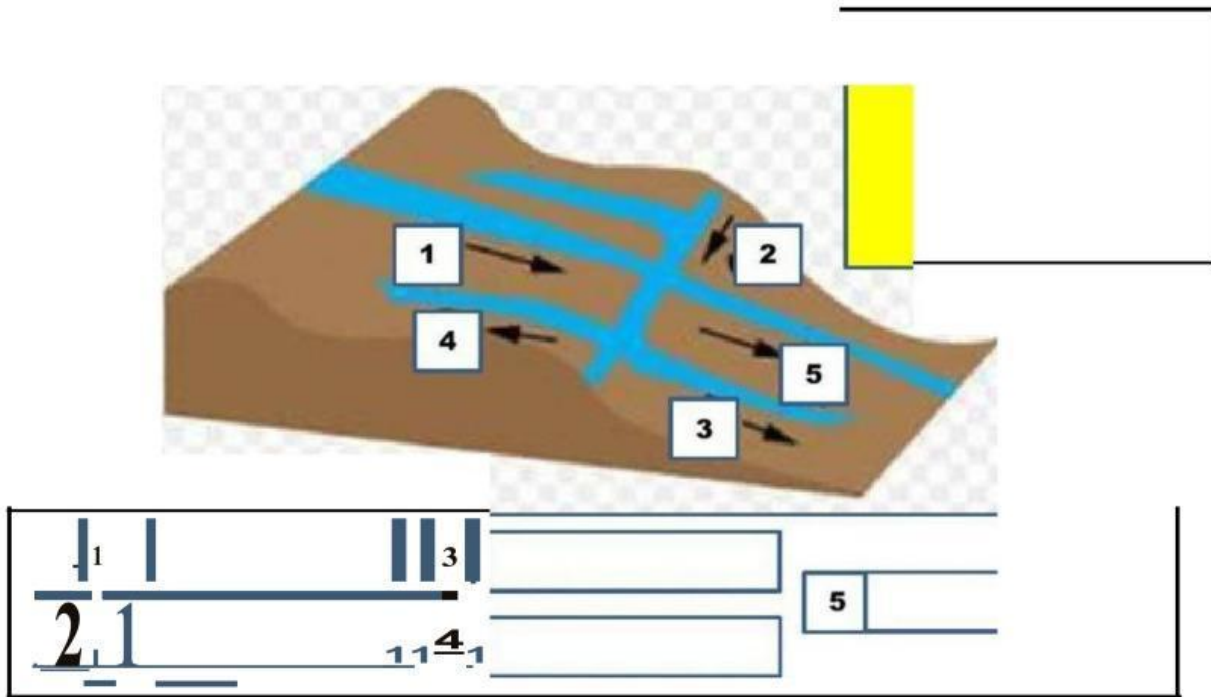
B. BERIKAN KETERANGAN TEN TANG BAGIAN-BAGIAN SUNGA! BERIKUT DENGAN MEMASANGKAN!



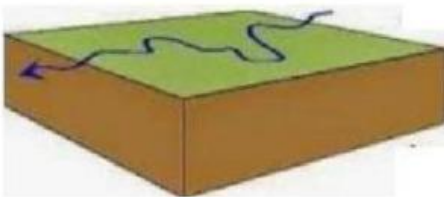
C. BERIKAN KETERANGAN TENTANG BAGIAN-BAGIAN SUNGA! BERIKUT DENGAN MEMBERIKAN CHECK UST!

	HULU	TENGAH	HILIR
	LEMBAH SUNGAI BERBENTUK V	LEMBAH SUNGAI BERBENTUK V	LEMBAH SUNGAI BERBENTUK V
	LEMBAH SUNGAI BERBENTUK U	LEMBAH SUNGAI BERBENTUK U	LEMBAH SUNGAI BERBENTUK U
	EROSI LEBIH BESAR DARI PADA SEDIMENTASI	EROSI LEBIH BESAR DARI PADA SEDIMENTASI	EROSI LEBIH BESAR DARI PADA SEDIMENTASI
	EROSI LEBIH KECIL DARI PADA SEDIMENTASI	EROSI LEBIH KECIL DARI PADA SEDIMENTASI	EROSI LEBIH KECIL DARI PADA SEDIMENTASI
	EROSI SAMA DENGAN SEDIMENTASI	EROSI SAMA DENGAN SEDIMENTASI	EROSI SAMA DENGAN SEDIMENTASI
	MEANDER SUNGAI BANYAK TERBENTUK	MEANDER SUNGAI BANYAK TERBENTUK	MEANDER SUNGAI BANYAK TERBENTUK
	TERBENTUK DANAU TAPALKUDA	TERBENTUK DANAU TAPALKUDA	TERBENTUK DANAU TAPALKUDA

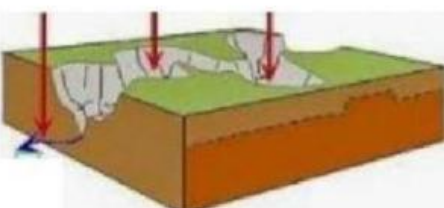
C. BERIKAN KETERANGAN TENTANG BAGIAN-BAGIAN SUNGA! BERDASARKAN ALIRAN!



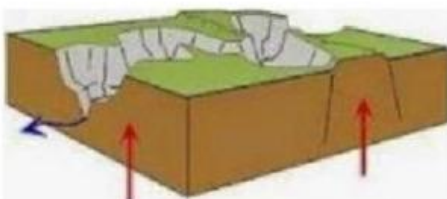
D. BERTUKAR PANAH DENGAN MEMASANGKAN JENIS SUNGAJ BERDASARKAN STRUKTUR BATUAN!



SUPERPOSED



ANTISEDEN

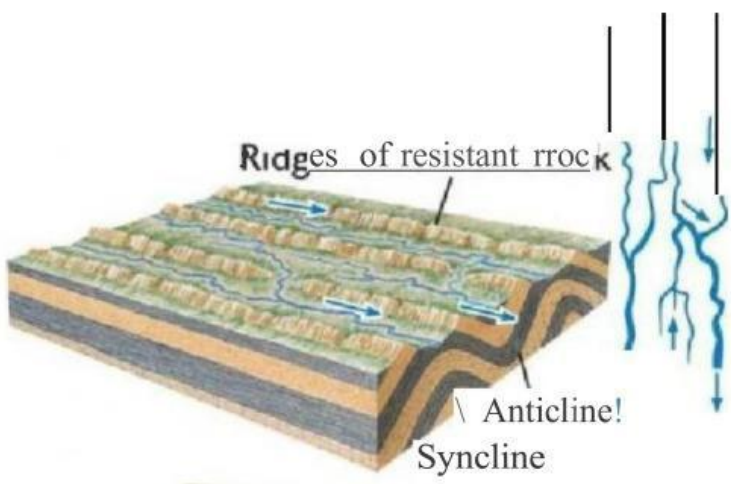


INSEKUEN


E. PASANGKAN DENGAN PANAH JENIS AURAN SUNGAI BERTKUT!



TRELIS




REKTANGULER



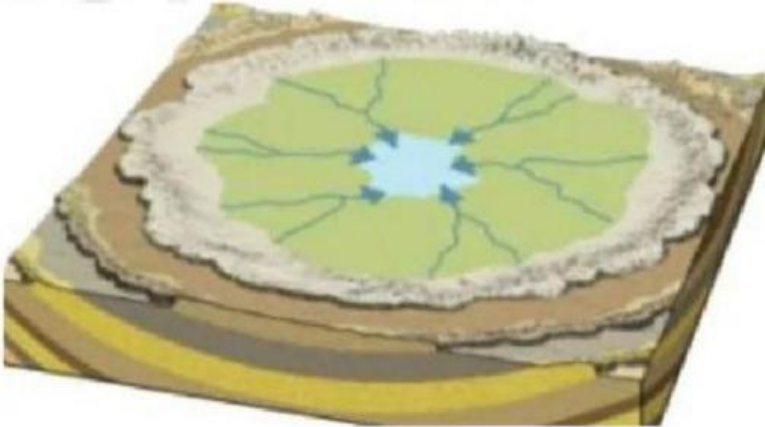
DENRITIK



PARALEL



**RADIAL
SENTIPENTAL**



ANULAR



**RADIAL
SENTRIFUGAL**

F. PASANGKAN DENGAN PANAH RANGAN JENIS DANAU BERIKUT!



**DANAU
VULKANIK**



**DANAU
TEKTOVULKANIK**



**DANAU
TEKTONIK**



DANAU GLETSER



**DANAU TAPAL
KUDA**



DANAU DOLINE