



Nombre:

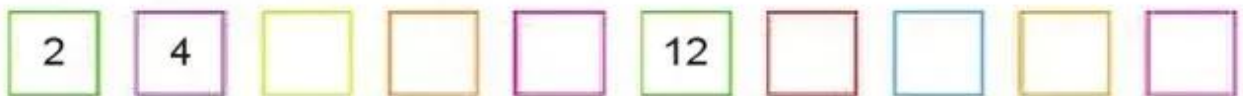
Curso:

1. Ordena los números de menor a mayor:





2. Completa la siguiente serie:



3. Calcula estas sumas y restas:

47	32	96	64	78
- 23	+ 41	- 35	+ 22	- 17
-----	-----	-----	-----	-----
.....

4. Rodea las monedas que utilizarías para pagar.

¿Cuánto dinero sobra en total?



En total sobran: _____