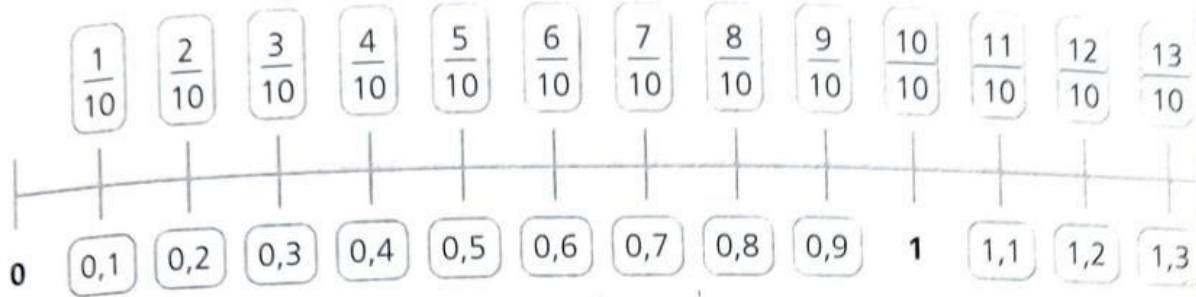


COMPITI PER CASA

NUMERI DECIMALI SULLA LINEA DEI NUMERI

1. Osserva la linea dei numeri e completa le tabelle, come nell'esempio.




precede	numero	segue
0,1	0,2	0,3
	0,4	
	0,6	
	0,8	

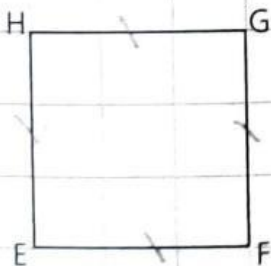
precede	numero	segue
	0,9	
	1	
	1,1	
	1,2	

IL PERIMETRO DEI POLIGONI

- Misura con il righello i lati di ciascun poligono e scrivi le loro misure; poi calcola i perimetri.

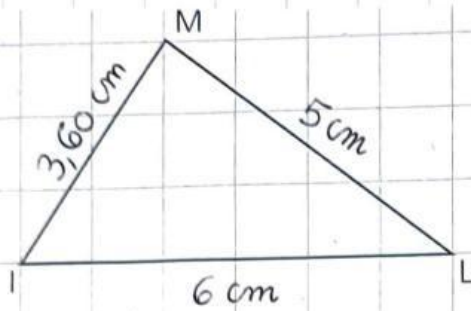


$AB = \dots \text{ cm}$ $BC = \dots \text{ cm}$
 $CD = \dots \text{ cm}$ $AD = \dots \text{ cm}$
 $P = \dots \text{ cm} + \dots \text{ cm} + \dots \text{ cm} + \dots$
 $\text{cm} = \dots \text{ cm}$

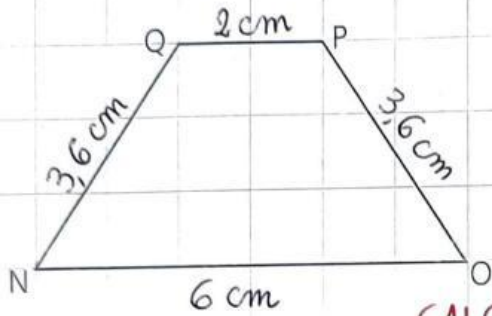


$EF = \dots \text{ cm}$ $FG = \dots \text{ cm}$
 $GH = \dots \text{ cm}$ $EH = \dots \text{ cm}$
 $P = \dots \text{ cm} + \dots \text{ cm} + \dots \text{ cm} + \dots$
 $\text{cm} = \dots \text{ cm}$

SE I COMPITI SONO TROPPI ... CONTINUIAMO ASSIEME A SCUOLA.



IL = cm LM = cm
IM = cm
P = cm + cm + cm =
..... cm



NO = cm OP = cm
PQ = cm NQ = cm
P = cm + cm + cm +
cm = cm

CALCOLA IL PERIMETRO