

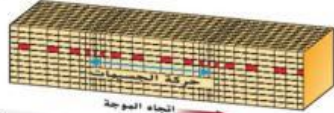


اسم الطالب :

مستعينا بما يلي أكمل جدول المقارنة التالي :

3 - اولية	2 - ثانوية	1 - سطحية
6 - الابطأ	5 - متوسطة	4 - الأسرع
9 - موازي على اتجاه الحركة	8 - دائرية	7 - عمودي على اتجاه الحركة
12 - الصلبة والسائلة	11 - الصلبة والسائلة	10 - الصلبة فقط

			
			نوع الموجة
			سرعة الموجة
			كيف تهتز الموجة
			نوع الوسط الذي تمر الموجة من خلاله