
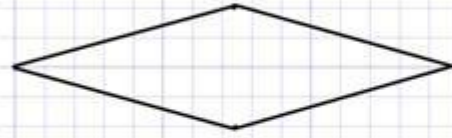
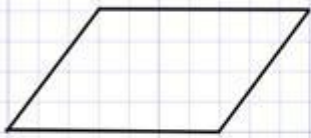


Площа паралелограма

1. Встанови відповідність між фігурою та її площею:



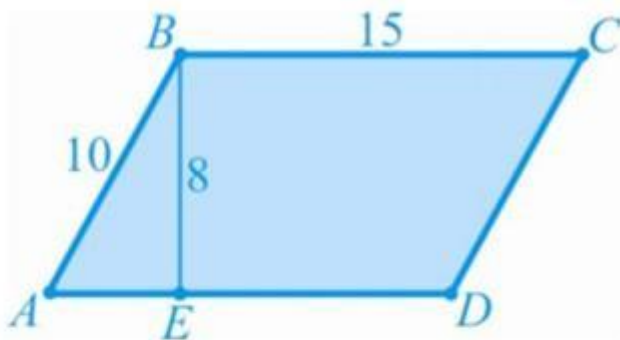
36

28

32

30

2. Обчисли площу паралелограма:



3. Діагональ паралелограма дорівнює 7см і перпендикулярна до сторони паралелограма, яка дорівнює 5см. Знайди площу паралелограма. *(запиши лише число)*

