







ASESMEN SUMATIF AKHIR SEMESTER GANJIL

MI HIDAYATUL MUBTADIIN DEMPEL

TAHUN PELAJARAN 2025/2026

Mata Pelajaran : Seni Rupa	Hari /Tanggal :
Kelas : III (Tiga)	Waktu : 90 menit

I. Berilah tanda silang (X) pada huruf a, b, atau c pada lembar jawaban yang benar!

- Ruang yang benar-benar ada dan dapat dimasuki disebut...
 - ruang semu
 - ruang maya
 - ruang nyata
 - ruang khayal
- Unsur ruang dalam seni rupa dapat memberikan kesan...
 - tebal dan tipis
 - luas, sempit, dekat, dan jauh
 - keras, lembut dan lunak
 - manis dan asam
- Nama lain dari *swafoto* adalah ...
 - potret diri
 - foto bersama
 - foto studio
 - selfie
- Pada swafoto biasanya hanya terlihat wajah hingga bahu karena...
 - kamera buram
 - kamera rusak
 - jarak kamera dekat dengan tubuh
 - orang tidak mau memotret tubuh
- Sebelum ada kamera orang memotret diri dengan cara...
 - memotret diri sendiri
 - melukis wajah sendiri menggunakan cermin
 - menggambar hewan
 - meminta orang lain memotret
- Di bawah ini yang termasuk karya *pop-up* adalah...
 - 
 - 
 - 
 - 
- Gambar yang terlihat saat *berswafoto* adalah...
 - punggung dan kaki
 - bahu dan lutut
 - tangan dan perut
 - wajah dan bahu
- Ruang menunjukkan wujud tiga dimensi dengan menunjukkan...
 - luas, sempit dan pendek
 - lebar, sempit dan luas
 - panjang, lebar dan tinggi
 - pendek, tinggi dan sempit
- Perhatikan gambar berikut!




Karya disamping disebut dengan...

- swafoto
 - pop-up
 - lukisan
 - patung
- Bahan yang digunakan untuk membuat pop-up yaitu...
 - minyak
 - tepung
 - kertas karton
 - air

11. Di bawah ini manfaat *swafoto* adalah...
- a. mengganggu orang lain saat memotret
 - b. mengambil foto di tempat berbahaya
 - c. tidak menampilkan perasaan
 - d. mengingat kembali momen berharga

12. Karya *pop-up* merupakan karya...
- a. satu dimensi
 - b. dua dimensi
 - c. tiga dimensi
 - d. empat dimensi
13. Berikut yang merupakan karya yang memiliki ruang semu adalah....



14. *Berswafoto* tidak dianjurkan di tempat yang...
- a. indah
 - b. asri
 - c. memukau
 - d. berbahaya
15. Alat yang digunakan untuk membuat karya *pop-up* adalah...
- a. gergaji dan palu
 - b. cangkul dan pisau
 - c. gunting dan cutter
 - d. tang dan palu

16. Perhatikan gambar di bawah ini!



Apa yang dilakukan orang pada gambar?...

- a. pop-up
 - b. swafoto
 - c. melukis
 - d. berkaca
17. Dito membawa 4 buah benda ke kelas. Ada dadu, topi ulang tahun, bola lampu dan kaleng biskuit. Benda yang berbentuk kerucut adalah...
- a. dadu
 - b. bola lampu
 - c. topi ulang tahun
 - d. kaleng biskuit
18. Membuat maket dari barang bekas dapat membantu Menjaga lingkungan karena...
- a. barang bekas mahal harganya
 - b. barang bekas bisa di pakai kembali
 - c. barang bekas terlihat indah
 - d. barang bekas sulit dicari
19. Maket dapat dibuat dengan bahan...
- a. batu
 - b. air
 - c. kertas
 - d. besi
20. Seorang arsitek dapat merancang...
- a. sungai dan laut
 - b. danau dan hutan
 - c. awan dan bintang
 - d. gedung dan rumah
21. Alat yang digunakan untuk memotong bahan dalam membuat maket adalah...
- a. cat
 - b. lem
 - c. gunting
 - d. kertas
22. Kita dapat melakukan swafoto ketika...
- a. terjadi kecelakaan
 - b. kehilangan kucing
 - c. terpeleset
 - d. merayakan ulang tahun
23. Orang yang bertugas merancang gedung disebut...
- a. profesor
 - b. direktur
 - c. arsitek
 - d. teknisi
24. Di bawah ini contoh bentuk tabung adalah ...
- a. kotak nasi
 - b. bola
 - c. topi pak tani
 - d. kaleng minuman
25. Tiruan bentuk bangunan dalam ukuran yang lebih kecil disebut ...
- a. swafoto
 - b. maket
 - c. pop-up
 - d. selfie