

LEMBAR KERJA PESERTA DIDIK

LKPD

Ilmu Pengetahuan Alam dan Sosial (IPAS)

“LETAK GEOGRAFIS NEGARA INDONESIA”

Nama:

.....

.....

.....

Kelas:

.....

Capaian Pembelajaran



Menjelaskan letak dan kondisi geografis negara Indonesia dengan menggunakan peta konvensional/digital



Tujuan Pembelajaran



Peserta didik mampu Menjelaskan letak dan kondisi geografis negara Indonesia dengan menggunakan peta konvensional/digital



INDIKATOR TUJUAN PEMBELAJARAN



- Menunjukkan letak geografis negara Indonesia dengan menggunakan peta konvensional/digital
- Menjelaskan letak geografis Indonesia
- Menjelaskan pengaruh letak geografis Indonesia secara komunikatif



MATERI

Letak Geografis Negara Indonesia

letak geografis adalah posisi suatu wilayah berdasarkan kenyataannya di permukaan Bumi. Secara geografis, Indonesia berada di antara dua benua (Asia dan Australia) dan dua samudra (Hindia dan Pasifik).

Sementara itu, posisi dan letak wilayah Indonesia berdasarkan batas negaranya terletak pada batas berikut:

- Utara: Malaysia, Singapura, Filipina, Selat Malaka, Selat Singapura, Laut Sulawesi, dan Samudra Pasifik.
- Timur: Papua Nugini dan Samudra Pasifik.
- Selatan: Australia, Timor Leste, Samudra Hindia, Laut Timor, dan Laut Arafuru.
- Barat: Samudra Hindia Letak geografis Indonesia termasuk strategis sehingga banyak memberi keuntungan bagi negara kita Indonesia,



Keuntungan ini meliputi jadi jalur perdagangan internasional hingga memiliki kebudayaan yang sangat beragam.

Petunjuk Belajar

1. Siapkan alat tulis
2. Berdoalah sebelum memulai mengerjakannya
3. Lengkapi nama kelompok pada kolom yang sudah disediakan
4. Bacalah dengan cermat setiap petunjuk
5. Jika terjadi kesulitan bertanya kepada guru
6. Periksa hasil pekerjaan sebelum diserahkan ke guru

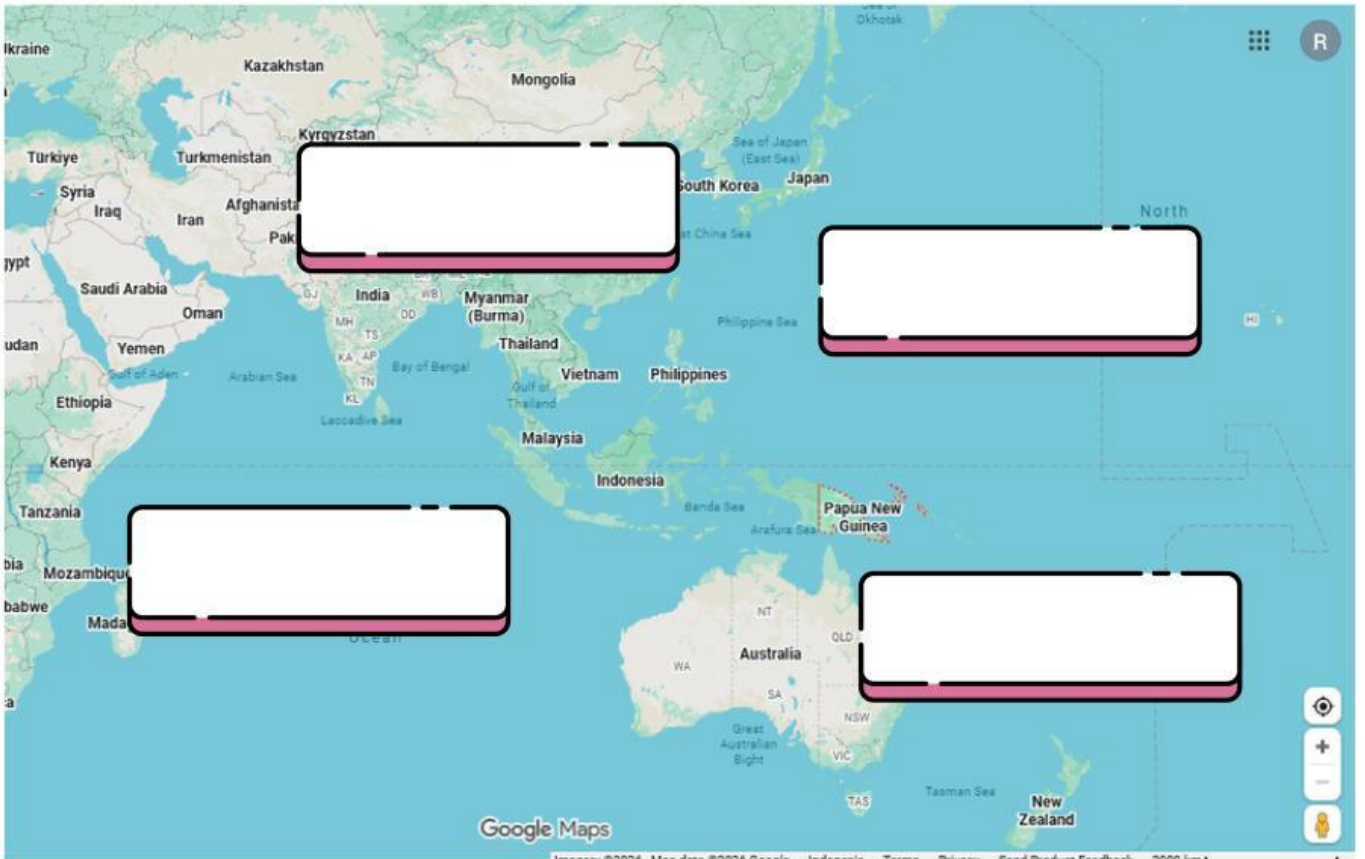


Simak Video berikut ini dengan cermat!!
Kemudian klik jawaban antara benar atau salah
pada pertanyaan berikut ini?





Tentukan lah batas wilayah Indonesia dengan menarik kalimat yang terdapat pada kotak yang tersedia!



Benua Asia

Samudera Hindia

Benua Australia

Samudera Pasifik

Benua Eropa

Samudera Arktik

Benua Amerika

Samudera Atlantik



Perhatikan peta Indonesia yang ada di atlas
Pasangkan garis sesuai dengan batas negara
Indonesia



TIMUR

Selat Malaka, Laut Andaman, Laut
Tiongkok Selatan, Laut Sulawesi,
Samudera Pasifik dan Malaysia Timur

BARAT

Australia, Samudera
Hindia, Laut Timur, dan Laut
Arafuru

SELATAN

Samudera Hindia

UTARA

Samudera Pasifik dan Papua
Nugini Hindia



Tuliskan jawaban dari pertanyaan ini
pada kotak yang tersedia



Secara geografis, Indonesia terletak di antara dua benua yaitu?

.....

.....

.....

.....

Letak geografis Indonesia berada diantara 2 samudera yaitu?

.....

.....

.....

.....

.....

Berdasarkan Letak Geografis Indonesia berada diantara 3 lempeng utama yang ada di dunia, yaitu?

.....

.....

.....

.....