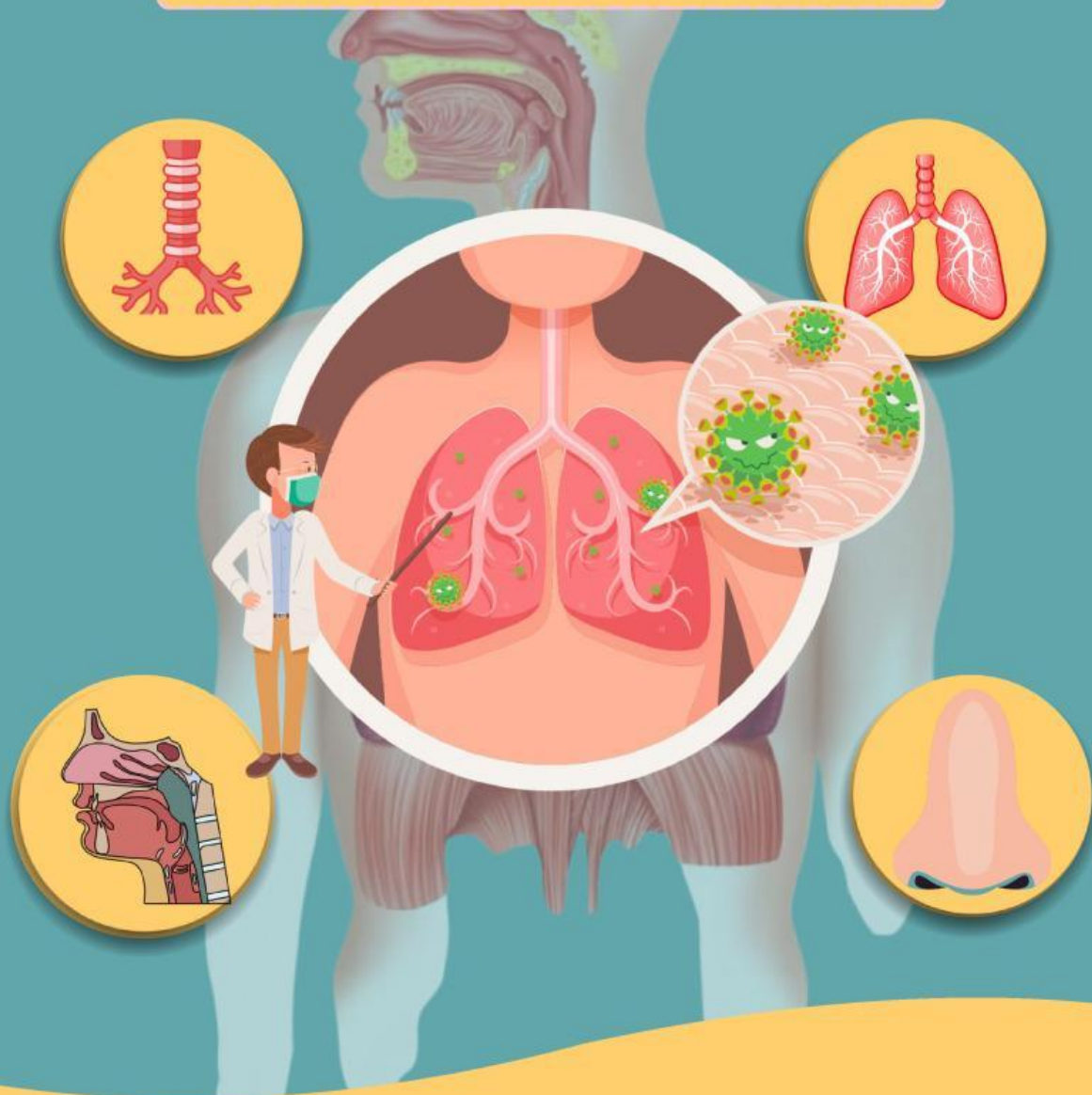




# E-LKPD

Elektronik Lembar Kerja Peserta didik

## SISTEM PERNAPASAN MANUSIA



Nama anggota : \_\_\_\_\_  
kelompok \_\_\_\_\_


Kelas : \_\_\_\_\_



# capaian pembelajaran

## CAPAIAN PEMBELAJARAN

- Peserta didik mampu menjelaskan struktur organ pernapasan serta fungsinya.
- Peserta didik dapat menjelaskan proses bernapas serta faktor yang memengaruhi kesehatan sistem pernapasan.





# Tujuan pembelajaran

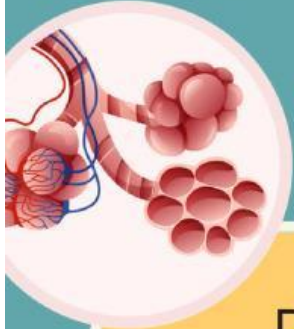


## TUJUAN PEMBELAJARAN (TP)

1. Peserta didik dapat mengidentifikasi organ-organ pernapasan manusia melalui gambar maupun video dengan baik.
2. Peserta didik dapat menjelaskan struktur serta fungsi organ pernapasan melalui gambar dengan benar.
3. Peserta didik dapat menjelaskan proses benafas dengan benar.
4. Peserta didik dapat mengidentifikasi faktor yang memengaruhi kesehatan pernapasan melalui video dengan benar.




# Petunjuk penggunaan E-LKPD



## PETUNJUK PENGGUNAAN E-LKPD

1. BERDOA TERLEBIH DAHULU SEBELUM MEMULAI KEGIATAN
2. SETELAH MENERIMA TAUTAN E-LKPD DARI GURU, PESERTA DIDIK DAPAT LANGSUNG MENGISI IDENTITAS BERUPA NAMA KELOMPOK DAN KELAS.
3. BACA DAN PAHAMIS DENGAN SEKSAMA CAPAIAN DAN TUJUAN PEMBELAJARAN
4. KERJAKAN E-LKPD SESUAI DENGAN PETUNJUK SETIAP HALAMANNYA.
5. APABILA SUDAH SELESAI MENGERJAKAN, KLIK FISIH DAN ISI IDENTITAS KEMBALI SEPERTI NAMA, LALU KLIK "SAVE"





Kampus  
Merdeka  
INDONESIA JAYA

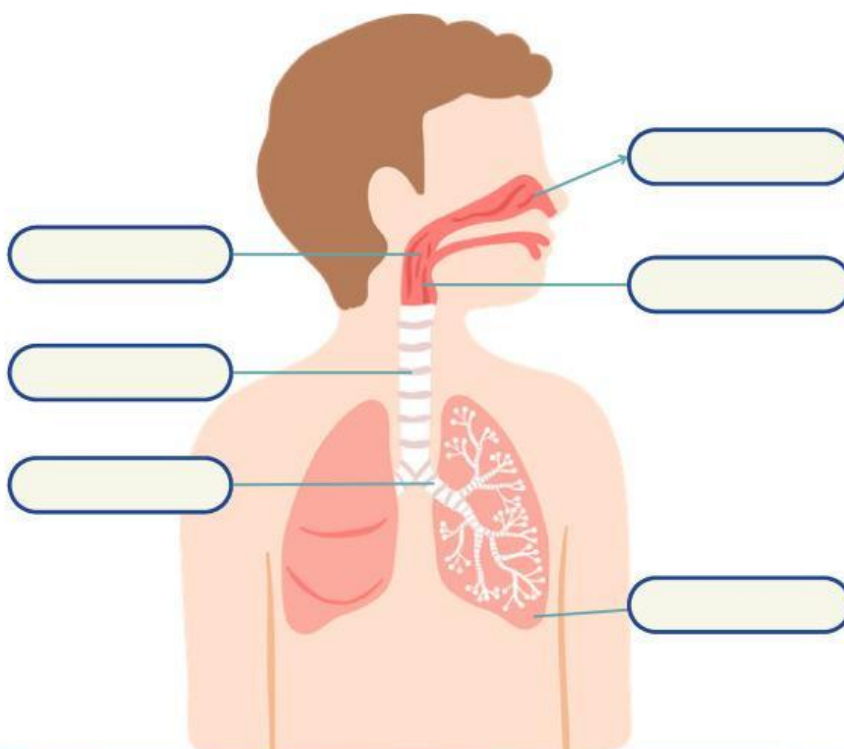
# Sistem pernapasan



AYO SIMAK



Mari cocokan organ pernapasan dengan benar!



Trakhea


Bronkhus

Paru-paru

Faring

Hidung

Laring



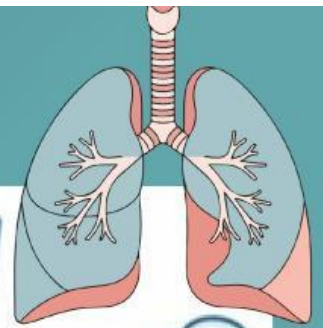
# Sistem pernapasan

Perhatikan video berikut dengan cermat dan catatlah informasi penting!



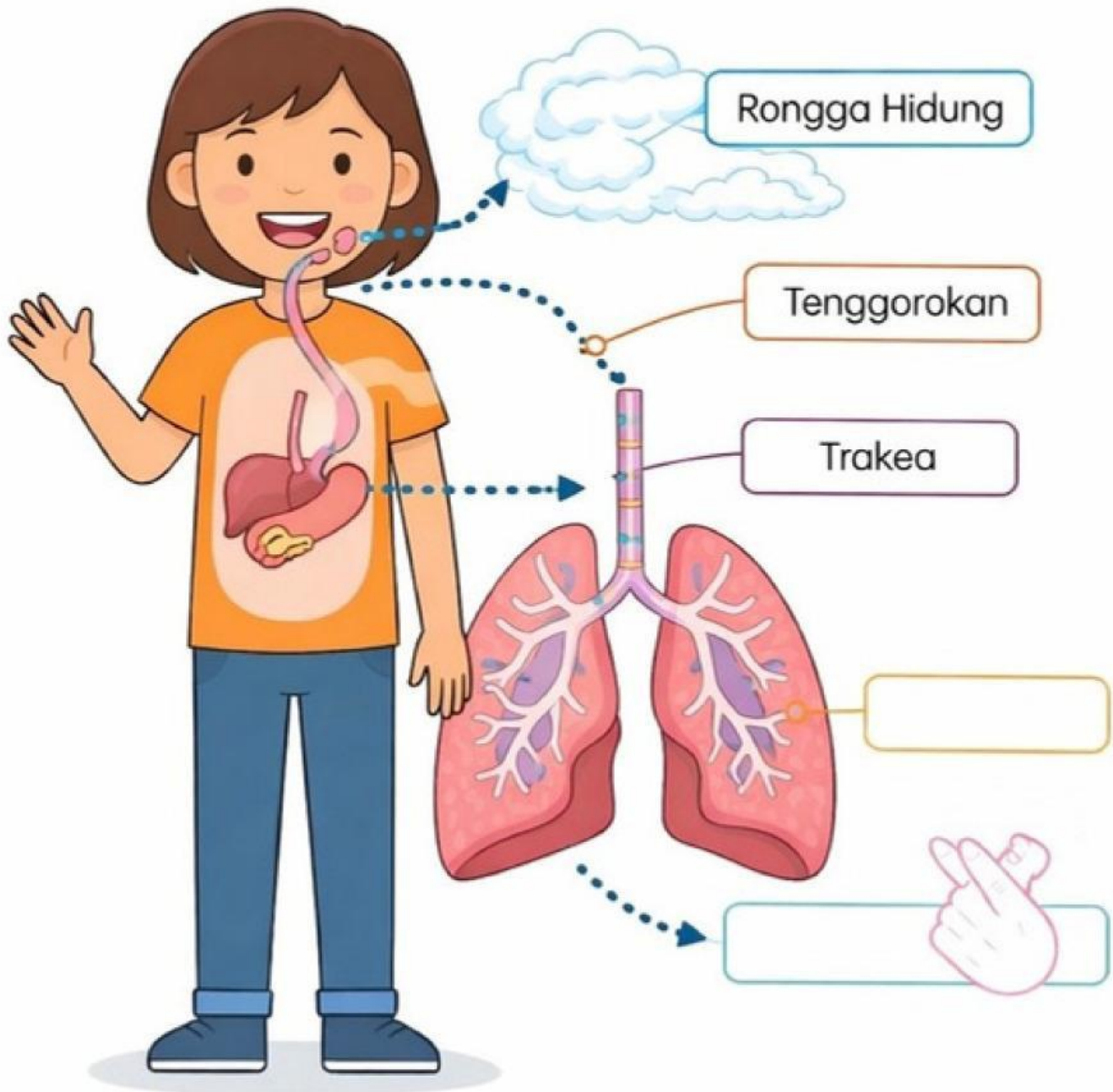
Setelah menyimak video di atas, tuliskan secara singkat proses pernapasan manusia dari hidung hingga paru-paru!

Blank lined area for writing the answer.



# PETUALANGAN PERNAPASAN

Bantu udara sampai ke paru-paru!  
Beri nama pada organ yang dilewati ya!



Taukah kamu? Kita bernapas sekitar 12-20 kali setiap menit!



# Sistem pernapasan



AYO LAKUKAN!



- MARI TAHAN NAPAS BERSAMA SELAMA  $\pm 10$  DETIK
- RASAKAN APA YANG TERJADI PADA TUBUH MU

Diskusikan pertanyaan berikut bersama teman mu!

1. Ayo ceritakan, apa yang kamu rasakan saat menahan napas



---

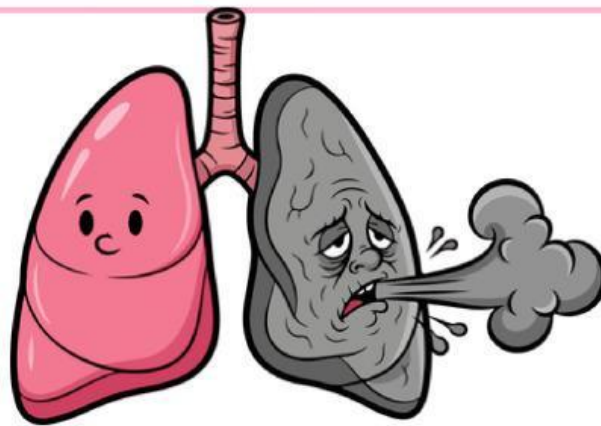
2. Menurut pendapat kelompokmu, apa yang akan terjadi jika manusia tidak bernapas sama sekali



---



# Sistem pernapasan



# PROFIL PENULIS





A large, empty rectangular box with a pink border, intended for a student to write their response to the illustration.

# Sistem pernapasan



Apa yang terjadi jika organ pernapasan kita terganggu?



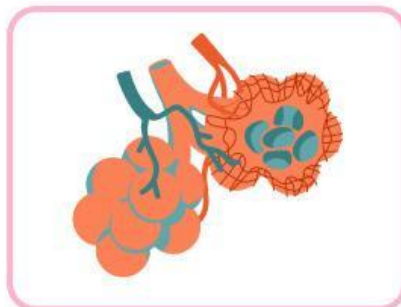
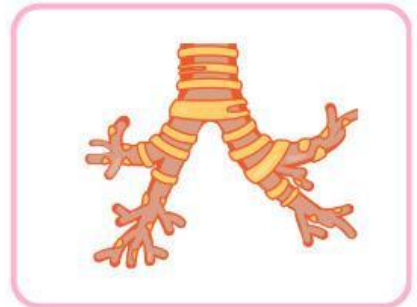
A large orange rectangular box with rounded corners, containing several horizontal white lines for writing an answer.

# MENGENAL ORGAN PERNAPASAN



Panduan

Amati gambar organ-organ pernafasan manusia. Lengkapi nama-nama organ pernafasan di bawah ini!

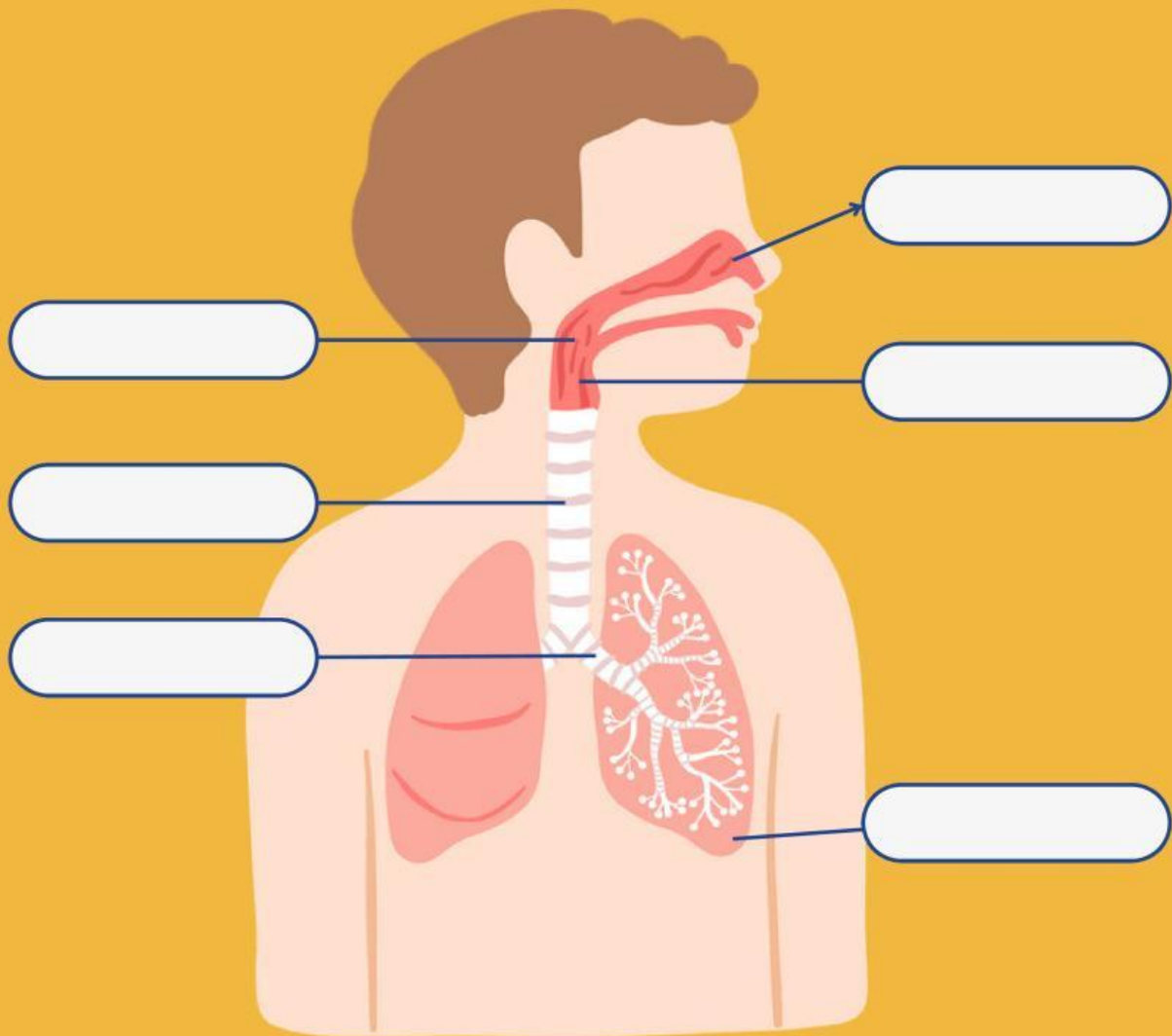


# Organ Pernapasan Manusia



## PANDUAN

Pasangkan gambar berdasarkan nama organ dengan cara menarik nama-nama organ dan letakkan pada pasangannya!



Gunakan nama organ pernapasan berikut untuk melengkapi gambar di atas!

Laring

Trakhea

Hidung

Bronkhus

Faring

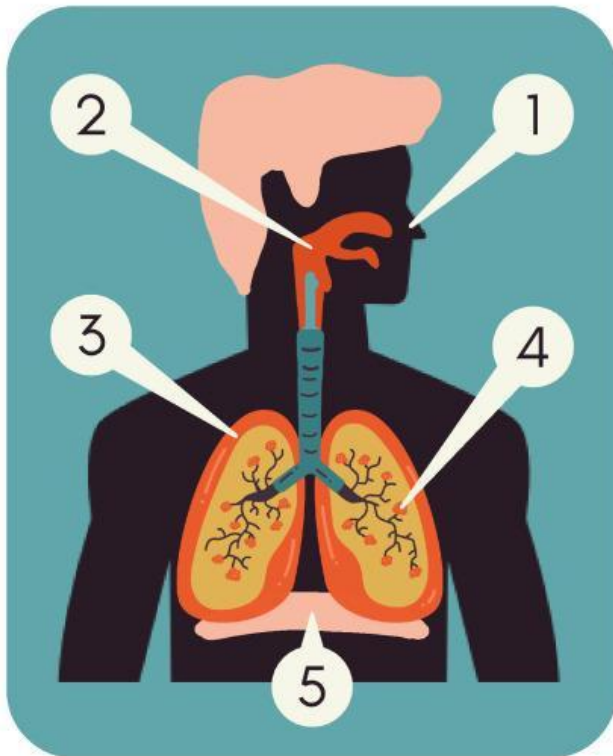
Paru-paru

# Organ Pernapasan Manusia



## PANDUAN

Tuliskan nama organ-organ pernapasan pada manusia serta fungsinya, sesuai dengan yang ditunjukkan pada gambar di bawah ini!



1

Nama organ: \_\_\_\_\_

Fungsi: \_\_\_\_\_

\_\_\_\_\_

\_\_\_\_\_

2

Nama organ: \_\_\_\_\_

Fungsi: \_\_\_\_\_

\_\_\_\_\_

\_\_\_\_\_

3

Nama organ: \_\_\_\_\_

Fungsi: \_\_\_\_\_

\_\_\_\_\_

\_\_\_\_\_

4

Nama organ: \_\_\_\_\_

Fungsi: \_\_\_\_\_

\_\_\_\_\_

\_\_\_\_\_

5

Nama organ: \_\_\_\_\_

Fungsi: \_\_\_\_\_

\_\_\_\_\_

\_\_\_\_\_