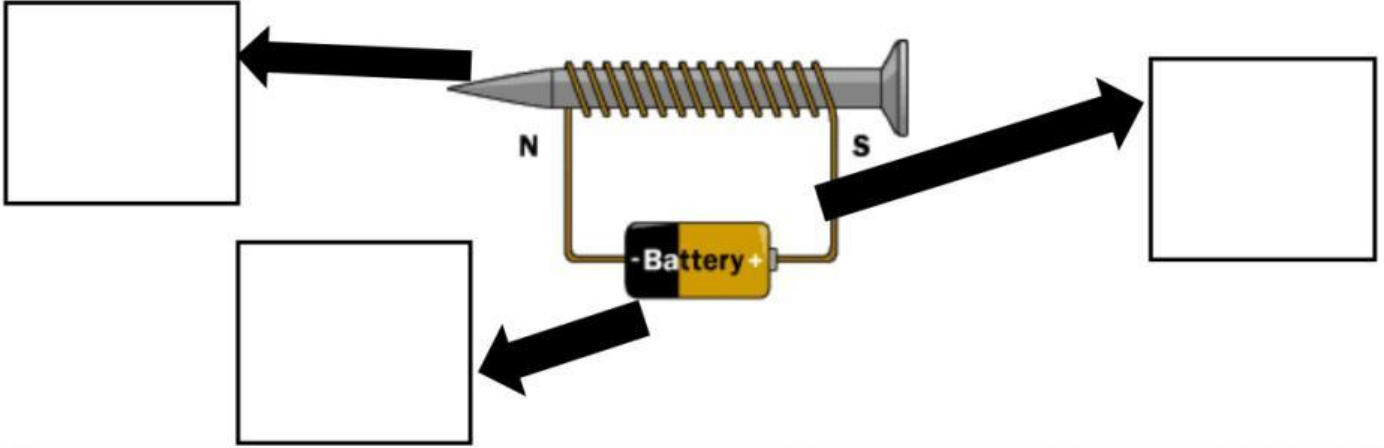


السؤال الأول : ضع البيانات على الرسم (لفة أسلاك - مصدر طاقة - ساق حديدي)




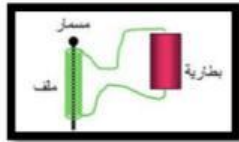
السؤال الثاني : صل بين الصورة والمفهوم التي توضحه ؟

مغناطيس كهربائي

المولد الكهربائي

مصدر الطاقة

محرك كهربائي



السؤال الثالث : أكمل الفراغات التالية بكلمات مناسبة ؟

المغناطيس الكهربائي

المحرك

التوربين

المولد الكهربائي

1- عبارة عن سلك ملفوف حول ساق من الحديد

2- هو عبارة عن جهاز يغير الطاقة الكهربائية إلى طاقة ميكانيكية أو حركية

3- عكس المحرك يغير الطاقة الميكانيكية إلى طاقة كهربائية

4- هو عبارة عن مجموعة من الشفرات المائلة و المتصلة بمحور