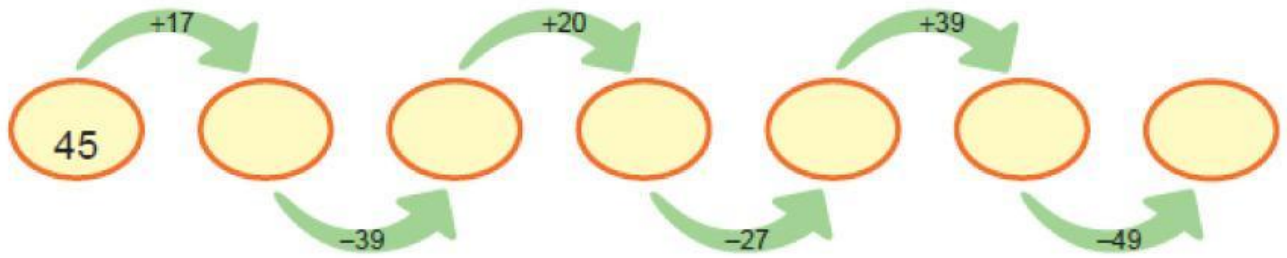


2-р анги

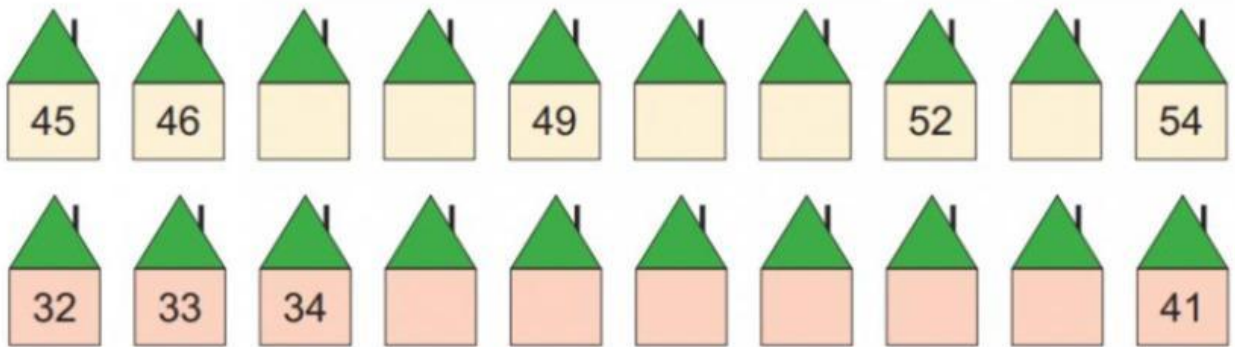
1. Үйлдлийг гүйцэтгээрэй.



1-р анги

2.

1



2-р анги

2. Нөхөж бичээрэй.

а. $9 \text{ см} = \square \text{ мм}$

г. $78 \text{ см} = \square \text{ дм } \square \text{ см}$

б. $1 \text{ м} = \square \text{ дм}$

д. $10 \text{ дм} = \square \text{ м}$

в. $85 \text{ см} = \square \text{ дм } \square \text{ см}$

е. $38 \text{ мм} = \square \text{ см } \square \text{ мм}$

2-р анги

1. Ажиглаад, мэдэгдэхгүй байгаа тоонуудыг олоорой.

5318	5328	5338		5358				5398
7152				7552	7652	7752		
1123	2123	3123			6123	7123		

3-р анги

2. Тохирох тоог олж бичээрэй.

- а. 21 зуун = жил д. 3 хоног = цаг и. 300 жил = зуун
б. 7 жил = улирал е. 12 улирал = сар к. 5 жил = сар
в. 8 жаран = жил ж. 32 улирал = жил л. 60 сар = улирал
г. 24 улирал = жил з. 12 сар = улирал м. 200 жил = зуун

4-р анги

1. Мэдэгдэхгүй байгаа гишүүнийг олж, шалгаарай.

$$\text{Footprint} \times 15 = 1170$$

$$9360 \div \text{Footprint} = 4$$



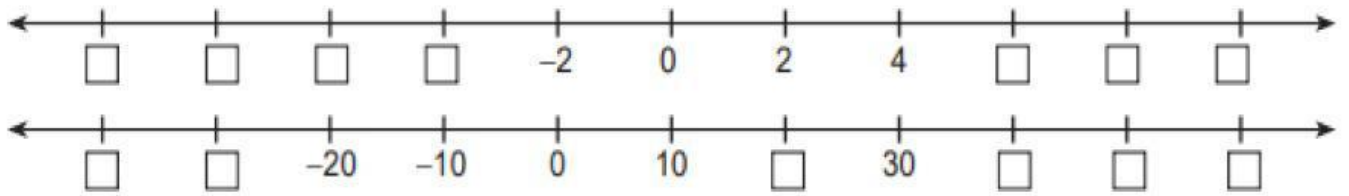
$$7 \times \text{Footprint} = 1449$$

$$\text{Footprint} \div 6789 = 19$$

$$\text{Footprint} \div 45 = 45$$

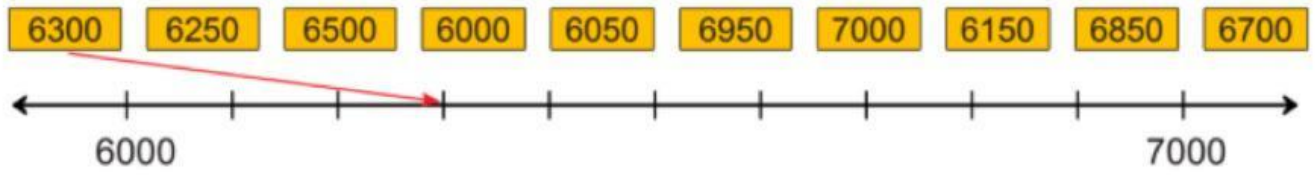
4-р анги

2. Тоон шулууны хуваарийг бичээд, тэгээс бага тоонуудыг нэрлээрэй.



5-р анги

1. Тоон картуудыг тоон шулууны харгалзах цэгтэй холбоорой.



5-р анги

2Үйлдлийг гүйцэтгээрэй..

а. $22 \xrightarrow{\times 10} \bigcirc \xrightarrow{\times 100} \bigcirc \xrightarrow{- 20000} \bigcirc \xrightarrow{\times 50} \bigcirc \xrightarrow{\times 20} \square$

б. $84 \xrightarrow{\times 10} \bigcirc \xrightarrow{\times 20} \bigcirc \xrightarrow{- 16000} \bigcirc \xrightarrow{\times 30} \bigcirc \xrightarrow{\times 50} \square$