

الاسم:

مملكة البحرين
وزارة التربية والتعليم
قسم الرياضيات

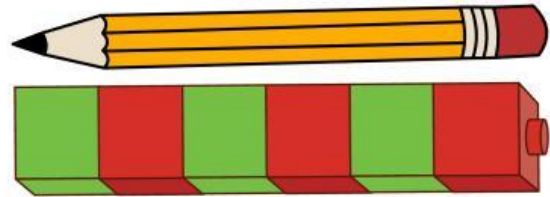


١٠


٢

السؤال الأول: كم مكعبًا  يبلغ طول القلم؟

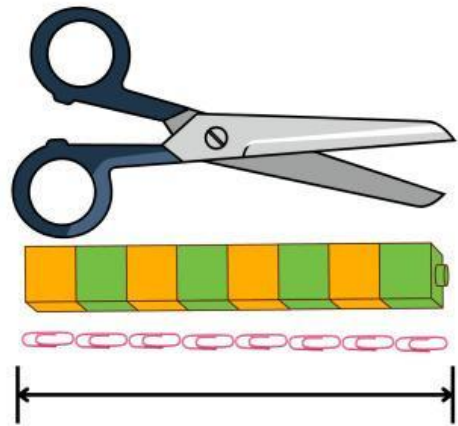
طول القلم مكعبات 




٣

السؤال الثاني: كم مشبكًا ورقيًا  يبلغ طول المقص؟

طول المقص مشابك ورقية 



٥

السؤال الثالث: كم مشبكًا ورقيًا  يبلغ طول القلم؟

طول القلم مشابك ورقية 

