

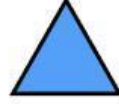
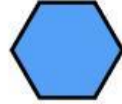
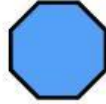


من أي منشور أو هرم هو؟

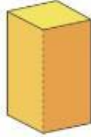


نشاط مطابقة الأشكال المقطعة مع المنشورات والاهرامات ثلاثية الأبعاد

اسحب وأفلت الشكل ثنائي الأبعاد الصحيح الذي يتطابق مع المنشورات/ الاهرامات التي تم تقطيعها منها!



ضع إجابتك هنا




ضع إجابتك هنا



ضع إجابتك هنا



ضع إجابتك هنا



mathspace مستوحى من

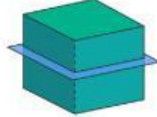
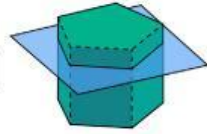
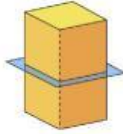

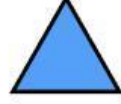
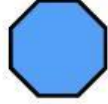


من أي منشور أو هرم هو؟

نشاط مطابقة الأشكال المقطعة مع المنشورات والاهرامات ثلاثية الأبعاد



اسحب وأفلت الشكل ثنائي الأبعاد الصحيح الذي يتطابق مع المنشورات/ الأهرامات التي تم تقطيعها منها!



صفحة الموارد

