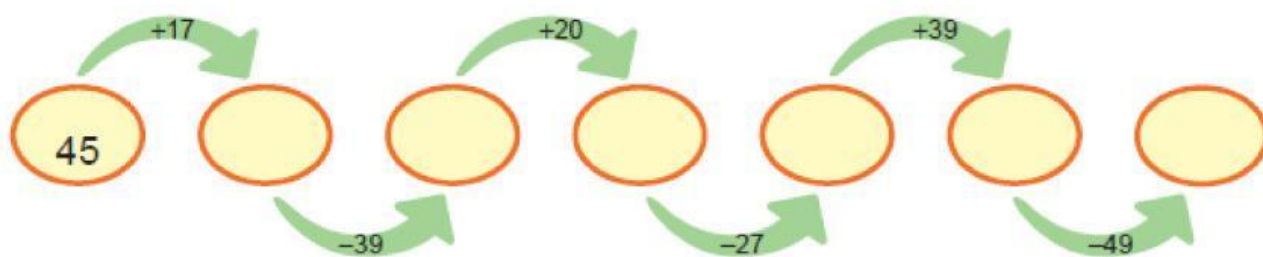


1. Үйлдлийг гүйцэтгээрэй.


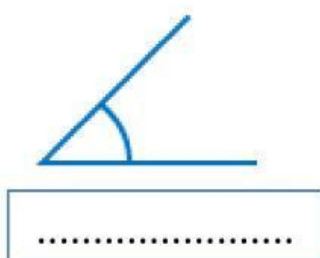


2. Зурагт өгөгдсөн өнцгийн нэрийг зөв байршуулаарай.

Тэгш өнцөгт

Мохоо өнцөгт


Хурц өнцөгт









3. Тэгш тоонуудыг олоорой.



4	5	11	14
18	25	36	25
2	8	7	9
10	85	3	42



4. Харгалзуулаарай.




цэг хэрчим тахир шугам гурвалжин дөрвөлжин дугуй




5. Хэн нь хол зам явсан бэ?


25 дм , 20 дм 

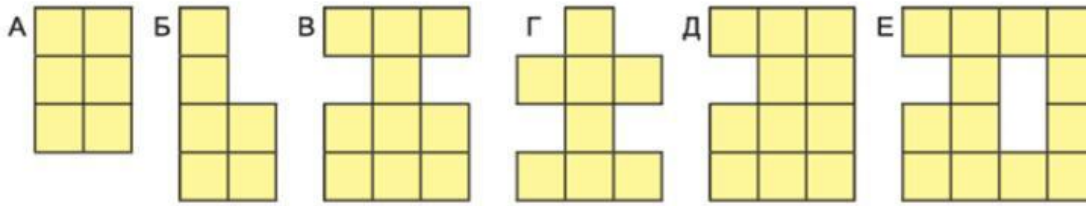



6. Дараах өгүүлбэр бүрийн үнэн, худлыг шалгаж, тэмдэглээрэй.

- а.  Энэ бол тойрог хэлбэртэй. Үнэн Худал
 Энэ бол дугуй хэлбэртэй. Үнэн Худал
 Энэ бол бөөрөнхий хэлбэртэй. Үнэн Худал
- б.  Энэ бол тойрог хэлбэртэй. Үнэн Худал
 Энэ бол дугуй хэлбэртэй. Үнэн Худал
 Энэ бол бөөрөнхий хэлбэртэй. Үнэн Худал
- в.  Энэ бол тойрог хэлбэртэй. Үнэн Худал
 Энэ бол дугуй хэлбэртэй. Үнэн Худал
 Энэ бол бөөрөнхий хэлбэртэй. Үнэн Худал

7. Хүүхдүүд  квадратыг өрж янз бүрийн дүрс бүтээжээ.



Дүрс бүр хэдэн квадратаас тогтож байна вэ? Тоог гүйцээж бичээрэй.

Дүрс	А	Б	В	Г	Д	Е
Квадратын тоо	6					

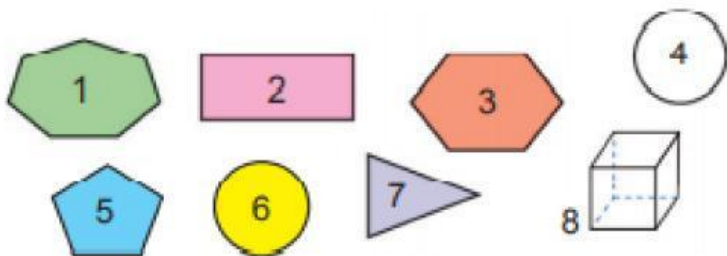
8. Нийлбэр нь 25 гарах тоонуудыг олоорой.

12+13	14+13	18+17	17+8
20+5	14+16	16+13	9+8
17+17	14+11	16+15	24+1
13+12	21+3	21+4	21+5

9. Тохирох тоог нөхөж тавиарай.

+19	
76	
53	
42	
49	
22	

10. Дүрс биетийг хүснэгтэд ангилж байрлуулаарай.



Дөрвөн өнцөгт	Дөрвөн өнцөгт биш