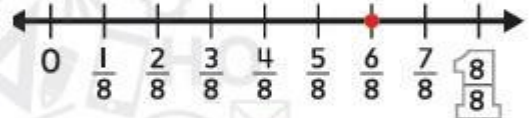
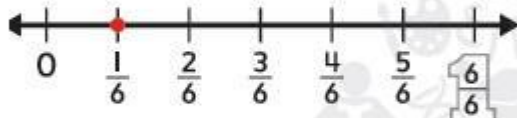
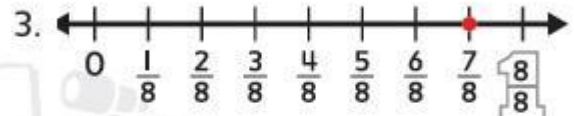
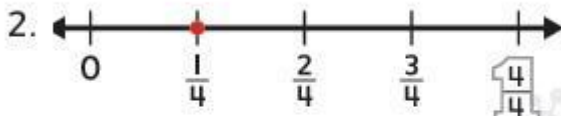


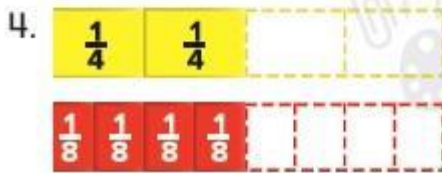
تَمَارِينُ ذَاتِيَّةٌ

إِسْتَحْدِمِ النَّمَاذِجَ لِلْمُقَارَنَةِ. اِسْتَحْدِمِ > أَوْ < أَوْ = .



$\frac{1}{4} \bigcirc \frac{1}{6}$

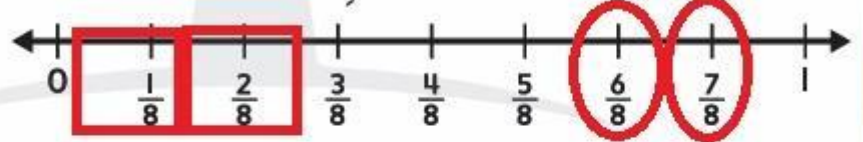
$\frac{7}{8} \bigcirc \frac{6}{8}$



$\frac{2}{4} \bigcirc \frac{4}{8}$

$\frac{4}{8} \bigcirc \frac{4}{6}$

إِسْتَحْدِمِ خَطَّ الأَعْدَادِ لِلتَّمَارِينِ 6-8.



6. حَوِّطْ جَمِيعَ الكُسُورِ المَوْجُودَةِ عَلَى خَطِّ الأَعْدَادِ الَّتِي هِيَ أَكْبَرُ مِنْ $\frac{5}{8}$.

7. ارْزَمْ مَرْتَبًا حَوْلَ جَمِيعِ الكُسُورِ المَوْجُودَةِ عَلَى خَطِّ الأَعْدَادِ الَّتِي هِيَ أَصْغَرُ مِنْ $\frac{3}{8}$.

8. اكْتُبِ الكُسُورَ المَوْجُودَةَ عَلَى خَطِّ الأَعْدَادِ الَّتِي هِيَ أَكْبَرُ مِنْ $\frac{3}{8}$.



لِكِتَابَةِ أَصْغَرِ مِنْ $\frac{5}{8}$.