
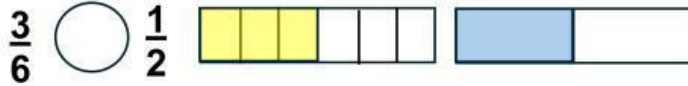



الاسم:

ورقة عمل درس مقارنة الكسور (فوق الاتقان)

* قارن باستخدام > أو < أو = :



* قارن باستخدام خط الأعداد:



$\frac{2}{5}$ ○ $\frac{2}{3}$

اعداد المعطمة : حصه علي

LIVEWORKSHEETS

مصنك
بسم الله
يا وطن

