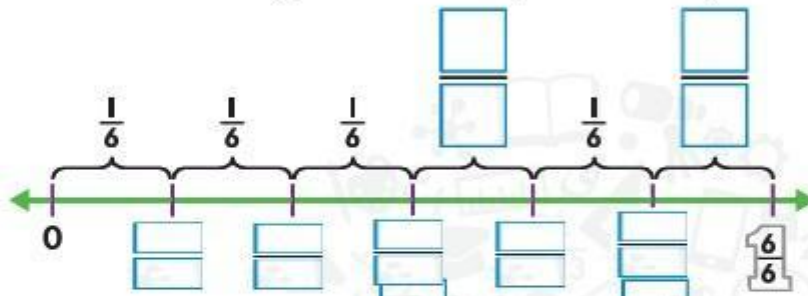
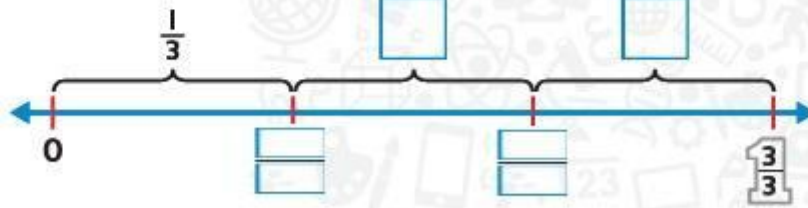


صع على كل عنصر مجهول اسم الكسر من الكل الذي يمثله.

4.

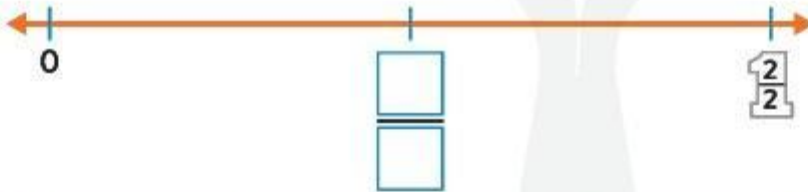


5.

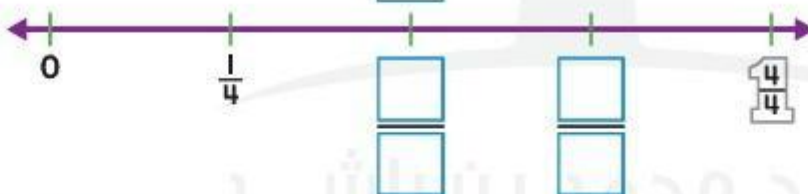


سم الكسور على خط الأعداد بين 0 و 1.

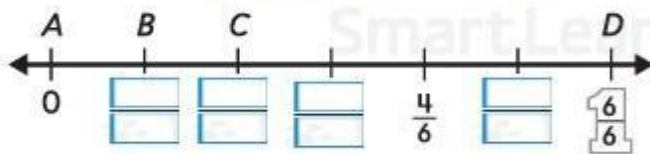
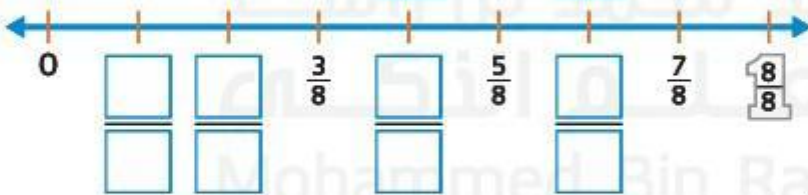
6.



7.

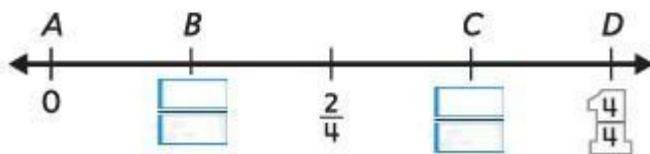


8.



أكتب النقطة التي تمثل كل كسر.

9.  $\frac{2}{6}$  تمثله النقطة \_\_\_\_\_.



10.  $\frac{4}{4}$  تمثله النقطة \_\_\_\_\_.