





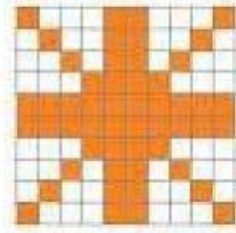




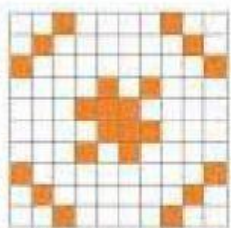
Porcentaje (2)

OA 4. Demostrar que comprenden el concepto de porcentaje de manera concreta, pictórica y simbólica, de forma manual y/o usando software educativo.



Actividades

I. Selecciona la alternativa correcta de acuerdo a cada representación gráfica de los porcentajes:



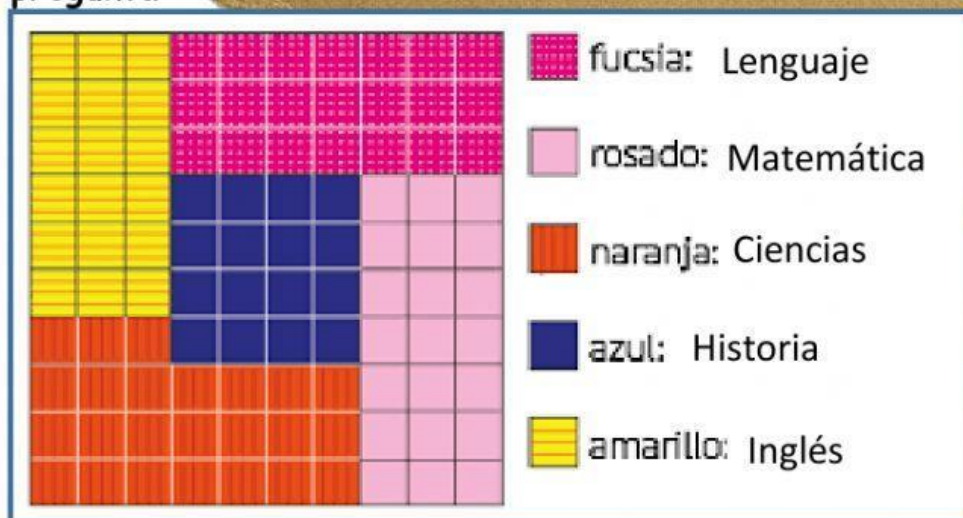
Educando en un clima de sana convivencia



II. Observa los ejemplos y selecciona la alternativa correcta en cada pregunta:



En el 6°A se entrega el porcentaje de estudiantes que tienen un promedio sobre 6,0 en cada asignatura.



1. ¿Cuál es el porcentaje de alumnos en Historia?

- a) 16 % b) 15 % c) 18 %

2. ¿Cuál es el porcentaje de alumnos en Matemática?


- a) 20 % b) 21 % c) 28 %

3. ¿Cuál es el decimal que representa el número de alumnos en Ciencias?

- a) 24% b) 0,24 c) 0,26

4. ¿Cuál es el decimal que representa el número de alumnos en Inglés?

- a) 1,8 b) 0,018 c) 0,18



Este grafico representa el porcentaje de alimentos para mascotas más vendidos en el año 2020. Cada cuadro representa una cantidad de 1.000 bolsas de 1kg c/v

Educando en un clima de sana convivencia

5. ¿Cuál es el porcentaje de alimento de la marca verde vendida?

a) 18% b) 15% c) 16%

6. ¿Cuál es el alimento menos vendido en el año 2020?

a) Naranja b) Celeste c) Amarilla

7. ¿Cuál es la cantidad de bolsas vendidas por la marca blanca en el año 2020?

a) 20 bolsas b) 2.000 bolsas c) 20.000 bolsas

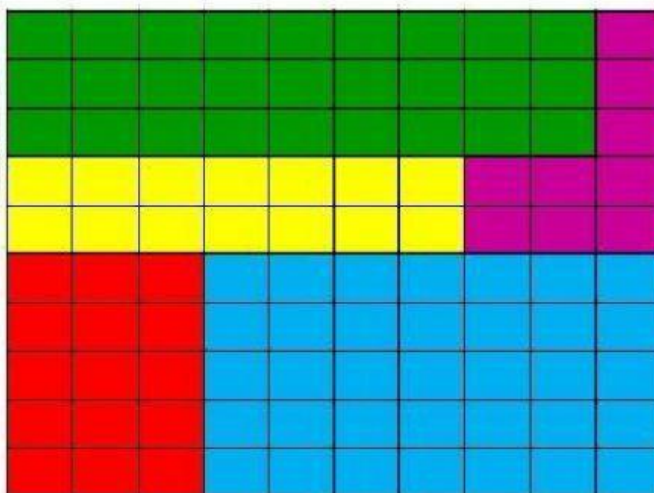
8. ¿Cuál es la cantidad total vendido por la marca celeste en el año 2020?

a) 14.000 kg b) 1.400 kg c) 14 kg

Este gráfico representa el porcentaje de cereales más consumidos en el año 2020

9. ¿Cuál es el porcentaje que representa a los cereales celeste?

a) 36% b) 30% c) 35%



10. ¿Cuál es el porcentaje que representa a los cereales amarillos?

a) 16% b) 15% c) 14%

11. ¿Cuál es el decimal que representa la cantidad de cereales verdes vendidos?

a) 0,27 b) 0,027 c) 2,7

Educando en un clima de sana convivencia