

Lembar Kerja Peserta Didik



LKPD



Mengenal Bangun Ruang




Nama :

Kelas :

MENGENAL BAGUN DATAR




Ayo, perhatikan gambar bangun datar di sebelah kiri dan daftar ciri-cirinya di sebelah kanan!




- Tidak memiliki sudut
- Hanya memiliki 1 sisi lengkung
- Memiliki jari-jari dan diameter



- Memiliki 3 sisi dan 3 sudut
- Jenis: sama sisi, sama kaki, sembarang
- Jumlah sudut = 180°



- 4 sisi sama panjang
- 4 sudut siku-siku (90°)
- Semua sisi dan sudut sama besar



- Semua sisi sama panjang
- Diagonal saling tegak lurus
- Sudut berhadapan sama besar




- Hanya memiliki satu pasang sisi sejajar
- Bisa berbentuk sama kaki, siku-siku, atau sembarang

MENCOCOKKAN BANGUN DATAR



Hubungkanlah garis bangun datar sesuai namanya dibawah ini !



LINGKARAN



JAJAR
GENJANG



SEGI TIGA



PERSEGI

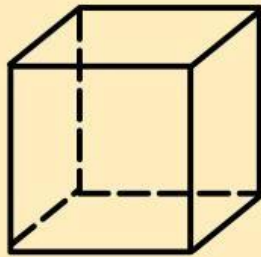
BANGUN RUANG

Tentukan banyak rusuk dan sisi dari bangun ruang di bawah ini!

1

Rusuk :


Sisi :



2

Rusuk :

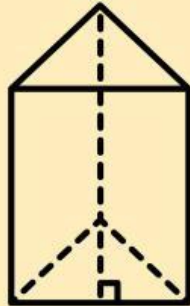
Sisi :



3

Rusuk :


Sisi :



4

Rusuk :


Sisi :



5

Rusuk :

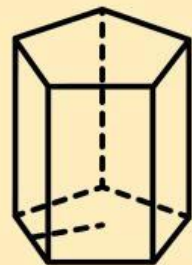
Sisi :



6

Rusuk :

Sisi :



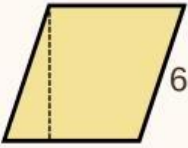
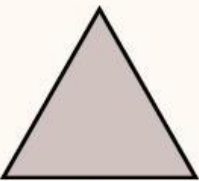
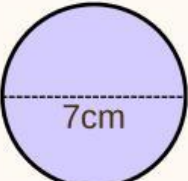


Nama :

Kelas :

Keliling dan Luas Bangun Datar

Hitunglah keliling dan luas bangun datar di bawah dengan benar!

Bangun Datar	Nama Jenis	Keliling	Luas
 <p>12 cm</p>			
 <p>7cm 15 cm</p>			
 <p>10 cm 6 cm</p>			
 <p>6 cm</p>			
 <p>7cm</p>			