

6. صلوا حَطًّا بَيْنَ كُلِّ عَدَدٍ بِالْكَلِمَاتِ وَالْعَدَدِ بِالْأَرْقَامِ.

مِئَةٌ وَسِتَّةٌ وَثَلَاثُونَ	169
مِئَةٌ وَتِسْعَةٌ وَسِتُونَ	163
مِئَةٌ وَثَلَاثَةٌ وَسِتُونَ	136
مِئَةٌ وَثَمَانُونَ	108
مِئَةٌ	180
مِئَةٌ وَثَمَانِيَةٌ	100
مِئَةٌ وَتِسْعَةٌ	109
مِئَةٌ وَتِسْعُونَ	196
مِئَةٌ وَسِتَّةٌ وَتِسْعُونَ	190

7. أ. اكتبوا الأعداد التي أمامكم بالأرقام

مِئَةٌ وَوَّاحِدٌ وَخَمْسُونَ _____

مِئَةٌ وَثَمَانٌ وَعَشْرُونَ _____

مِئَةٌ وَثَلَاثُونَ _____

مِئَةٌ وَثَلَاثَةٌ وَأَرْبَعُونَ _____

مِئَةٌ وَسِتُّ _____

مِئَةٌ وَسَبْعُونَ _____

ب. اكتبوا الأعداد التي أمامكم بالكلمات

_____ 185

_____ 172

_____ 120

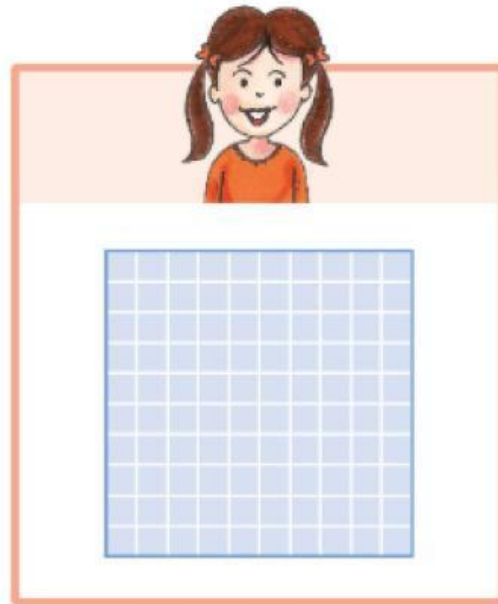


_____ 140

_____ 101

_____ 107

استراحة

8. أ. طَلِبَ مِنَ الْأَوْلَادِ تَمَثِيلَ الْعَدَدِ 100.
إِشْرَحُوا كَيْفَ مَثَّلَ كُلُّ وَاحِدٍ الْعَدَدَ.



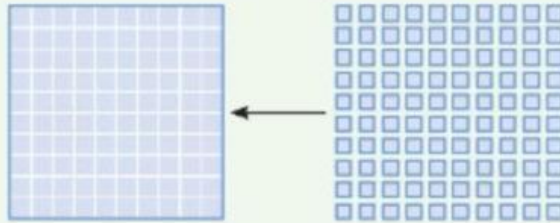


ب. اقرأوا وأكملوا أقوال المعلمة.

مثلت حنان العدد 100 بمساعدة جدول مئة واحدة.

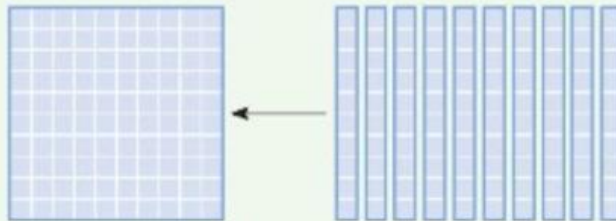
في الـ 100 يوجد مئة وحدة.

يمكن تمثيل العدد 100 بمساعدة _____ وحدة.




في الـ 100 يوجد عشر عشرات

يمكن تمثيل العدد 100 بمساعدة _____ شرائح عشرة.



في الـ 100 يوجد مئة واحدة

يمكن تمثيل العدد 100 بمساعدة لوحة مئة واحدة



100 وحدة هي 10 عشرات وهي 1 مئة.

ت. • لعب قاسم ودينا بـ "حرب بطاقات".

بطاقة من منهنم عليها عدد أكبر؟ _____



• اقرأوا طرائق قاسم ودينا لإيجاد العدد الأكبر من بين العددين 150 و- 129، واكتبوا أعداداً ملائمة.

لكي أعرف أي عدد أكبر، مثلت العددين.

مئات	عشرات	وحدات

مئات	عشرات	وحدات

_____ > _____



• اسألوا التلاميذ: ما وجه الشبه وما وجه الاختلاف بين العددين؟
• تناقشوا معهم من خلال السؤال: كيف حددوا من فاز من الولدين.



لِيَّ أَعْرِفَ أَيَّ عَدَدٍ أَكْبَرَ،
كَتَبْتُ الْعَدَدَيْنِ فِي جَدُولِ الْمَبْنَى الْعَشْرِيِّ.

وَحَدَاتٌ	عَشْرَاتٌ	مِائَاتٌ
0	5	1

وَحَدَاتٌ	عَشْرَاتٌ	مِائَاتٌ
9	2	1



_____ > _____

- في ألبند ت وَجْهوا أَلْتَلَامِيذُ يُتَمَلِّقُوا فِي الْبِدَايَةِ الْعَدَدَيْنِ.
- تَنَاقَشُوا مَعَهُمْ مِنْ خِلَالِ السُّؤَالِ: لِمَاذَا الْعَدَدُ الْأَكْبَرُ هُوَ الْعَدَدُ الَّذِي فِيهِ عَشْرَاتٌ أَكْثَرُ، حَتَّى وَكَلَّوْا كَانِ فِيهِ عَدَدُ الْوَحَدَاتِ الْـ "مَنْفَرْدَةَ" أَصْغَرَ.



- 9. اُكْتُبُوا عَدَدًا مُلَائِمًا لِكُلِّ تَمَثِيلٍ
- صَعُوا إِشَارَةَ > أَوْ <.

مِثَالٌ:

132 > 127

وَحَدَاتٌ	عَشْرَاتٌ	مِائَاتٌ
2	3	1

وَحَدَاتٌ	عَشْرَاتٌ	مِائَاتٌ
7	2	1

Blank boxes for the number:

مِائَاتُ	عَشْرَاتُ	وَحَدَاتُ

مِائَاتُ	عَشْرَاتُ	وَحَدَاتُ

Blank boxes for the number:

مِائَاتُ	عَشْرَاتُ	وَحَدَاتُ

مِائَاتُ	عَشْرَاتُ	وَحَدَاتُ

Blank boxes for the number:

مِائَاتُ	عَشْرَاتُ	وَحَدَاتُ

مِائَاتُ	عَشْرَاتُ	وَحَدَاتُ

□	□	□													
<table border="1" style="width: 100%; border-collapse: collapse;"> <thead> <tr> <th style="width: 33%;">مِائَاتٌ</th> <th style="width: 33%;">عَشْرَاتٌ</th> <th style="width: 33%;">وَحَدَاتٌ</th> </tr> </thead> <tbody> <tr> <td style="text-align: center;"></td> <td></td> <td style="text-align: center;"></td> </tr> </tbody> </table>	مِائَاتٌ	عَشْرَاتٌ	وَحَدَاتٌ					<table border="1" style="width: 100%; border-collapse: collapse;"> <thead> <tr> <th style="width: 33%;">مِائَاتٌ</th> <th style="width: 33%;">عَشْرَاتٌ</th> <th style="width: 33%;">وَحَدَاتٌ</th> </tr> </thead> <tbody> <tr> <td style="text-align: center;"></td> <td style="text-align: center;"></td> <td style="text-align: center;"></td> </tr> </tbody> </table>	مِائَاتٌ	عَشْرَاتٌ	وَحَدَاتٌ				
مِائَاتٌ	عَشْرَاتٌ	وَحَدَاتٌ													
مِائَاتٌ	عَشْرَاتٌ	وَحَدَاتٌ													

- 10. اكتبوا كل عدد في جدول المبنى العشري.
- ضعوا إشارة < أو >. استعينوا بوسائل الإيضاح عند الحاجة.

مثال:

162	>	149													
<table border="1" style="width: 100%; border-collapse: collapse;"> <thead> <tr> <th style="width: 33%;">مِائَاتٌ</th> <th style="width: 33%;">عَشْرَاتٌ</th> <th style="width: 33%;">وَحَدَاتٌ</th> </tr> </thead> <tbody> <tr> <td style="text-align: center;">1</td> <td style="text-align: center;">6</td> <td style="text-align: center;">2</td> </tr> </tbody> </table>	مِائَاتٌ	عَشْرَاتٌ	وَحَدَاتٌ	1	6	2		<table border="1" style="width: 100%; border-collapse: collapse;"> <thead> <tr> <th style="width: 33%;">مِائَاتٌ</th> <th style="width: 33%;">عَشْرَاتٌ</th> <th style="width: 33%;">وَحَدَاتٌ</th> </tr> </thead> <tbody> <tr> <td style="text-align: center;">1</td> <td style="text-align: center;">4</td> <td style="text-align: center;">9</td> </tr> </tbody> </table>	مِائَاتٌ	عَشْرَاتٌ	وَحَدَاتٌ	1	4	9	
مِائَاتٌ	عَشْرَاتٌ	وَحَدَاتٌ													
1	6	2													
مِائَاتٌ	عَشْرَاتٌ	وَحَدَاتٌ													
1	4	9													

158	□	171													
<table border="1" style="width: 100%; border-collapse: collapse;"> <thead> <tr> <th style="width: 33%;">مِائَاتٌ</th> <th style="width: 33%;">عَشْرَاتٌ</th> <th style="width: 33%;">وَحَدَاتٌ</th> </tr> </thead> <tbody> <tr> <td style="height: 40px;"></td> <td></td> <td></td> </tr> </tbody> </table>	مِائَاتٌ	عَشْرَاتٌ	وَحَدَاتٌ					<table border="1" style="width: 100%; border-collapse: collapse;"> <thead> <tr> <th style="width: 33%;">مِائَاتٌ</th> <th style="width: 33%;">عَشْرَاتٌ</th> <th style="width: 33%;">وَحَدَاتٌ</th> </tr> </thead> <tbody> <tr> <td style="height: 40px;"></td> <td></td> <td></td> </tr> </tbody> </table>	مِائَاتٌ	عَشْرَاتٌ	وَحَدَاتٌ				
مِائَاتٌ	عَشْرَاتٌ	وَحَدَاتٌ													
مِائَاتٌ	عَشْرَاتٌ	وَحَدَاتٌ													

190				169		
مِائَاتٌ	عَشْرَاتٌ	وَحَدَاتٌ		مِائَاتٌ	عَشْرَاتٌ	وَحَدَاتٌ

109				131		
مِائَاتٌ	عَشْرَاتٌ	وَحَدَاتٌ		مِائَاتٌ	عَشْرَاتٌ	وَحَدَاتٌ

134				137		
مِائَاتٌ	عَشْرَاتٌ	وَحَدَاتٌ		مِائَاتٌ	عَشْرَاتٌ	وَحَدَاتٌ

11. ضَعُوا إِشَارَةَ < أَوْ >. اسْتَعِينُوا بِوَسَائِلِ الْإِيضَاحِ عِنْدَ الْحَاجَةِ.

124		142
-----	--	-----

145		148
-----	--	-----

150		149
-----	--	-----

160		138
-----	--	-----

186		168
-----	--	-----

105		107
-----	--	-----

108		180
-----	--	-----

120		109
-----	--	-----

166		111
-----	--	-----