

# PHIẾU ÔN TẬP TUẦN 28

Môn Toán

## A. Bạn hãy khoanh tròn đáp án đúng nhất:

**Câu 1: Số gồm 2 đơn vị và 6 chục, được viết là:**

A. 26

B. 62

C. 60

**Câu 2: Số 91 đọc là:**

A. chín mươi một

B. chín mốt

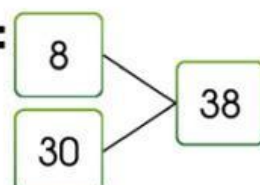
C. chín mười mốt

**Câu 3: Phép tính thích hợp với sơ đồ tách - gộp số sau là:**

A.  $30 + 38 = 8$

B.  $30 - 8 = 38$

C.  $8 + 30 = 38$



**Câu 4: 10, 20, 30, ....., ....., 60, 70, hai số cần điền vào chỗ chấm là:**

A. 40, 50

B. 50, 60

C. 40, 45

**Câu 5:  $56 \dots 46 + 13$ , dấu thích hợp điền vào chỗ chấm là:**

A. =

B. <

C. >

**Câu 6: Điền từ thích hợp vào chỗ chấm.**

A. thứ Năm

B. thứ Ba

thứ Hai

.....

thứ Tư

C. thứ Sáu



## B. Bạn hãy thực hiện các bài tập sau:

**Câu 1: Đặt tính rồi tính:**

$38 - 4$	$23 + 3$	$7 + 50$	$99 - 88$	$51 + 23$

**Câu 2: Tính:**





### Câu 3: Điền vào chỗ chấm:

a. Một tuần có ..... ngày.

b. Trong mỗi tuần: Em đi học ..... ngày: từ thứ ..... đến thứ .....



Em được nghỉ ..... ngày: từ thứ ..... đến thứ .....

c.    thứ Năm  thứ sáu

----- Chúc các bạn học tốt -----