




SEGI BANYAK

A. Perhatikan video di bawah ini



B. Kerjakan soal di bawah ini

1. Apakah nama bangun segi banyak di bawah ini?
 - a. Persegi
 - b. Persegi Panjang
 - c. Segitiga
 - d. Lingkaran
2. Bangunan yang semua sisinya sama panjang dan sudutnya sama besar disebut...
 - a. Segi banyak
 - b. Bukan segi banyak
 - c. Segi banyak beraturan
 - d. Segi banyak tidak beraturan
3. Pilihlah nama yang sesuai dengan bangun segi banyak tidak beraturan di bawah ini



4. Buatlah garis ke jawaban yang benar



Segitiga



Segi Enam



Lingkaran

5. Tariklah nama bangun yang sesuai dengan gambar

Segi Banyak Beraturan

Nama Bangun



Bintang

Segi Lima

Segi Enam