





THỬ TÀI TOÁN HỌC TUẦN 9

1


Chọn số thích hợp với số con vật



?



?




?

0 4 5 7 8 9



?



?



?

2

Số?



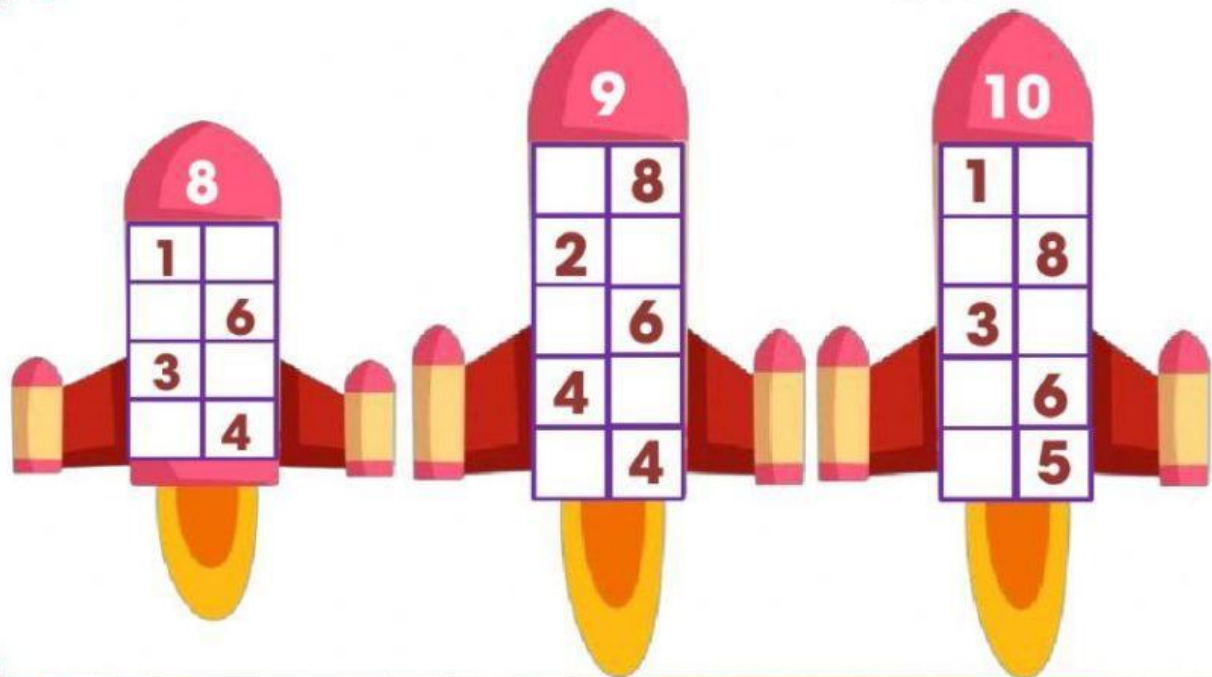
3

>, <, =



4

Hoàn thành sơ đồ tách – gộp số



5

Chọn vào chú sóc có hạt dẻ chứa

Số lớn nhất:




Số bé nhất:



6

Viết số thích hợp vào chỗ chấm và hoàn thành sơ đồ tách – gộp



Có ... chú cừu trắng

và ... chú cừu đen.

Vậy có tất cả ... chú cừu.

