

## VALOR ABSOLUTO Y VALOR RELATIVO

En 2º grado hay 34 personas en total, incluida la seño.

\*¿Cuántas unidades representan las personas del grado?

\*Si separamos al grado en grupos de 10 personas (10 unidades) ¿Qué nombre recibe cada uno de los grupos?



\*Entonces ¿cuántas decenas podemos formar? ¿Cuántas unidades sobran?

**34 ESTÁ FORMADO POR:**

**3 DECENAS**

Y

**4 UNIDADES**




### PRACTICAMOS

1. Selecciono el total correcto.

84	48	49	21	10	12	20	83	38

2. Junto las cifras en el cuadro del mismo color para formar el nº.

3 U	7 D
2 D	4 U
6 D	9 U
1 U	8 D



3. Uno con flechas.

26 ♦

♦ 1 DECENA 7 UNIDADES

52 ♦

♦ 2 DECENAS 6 UNIDADES

17 ♦

♦ 7 DECENAS 8 UNIDADES

78 ♦

♦ 5 DECENAS 2 UNIDADES