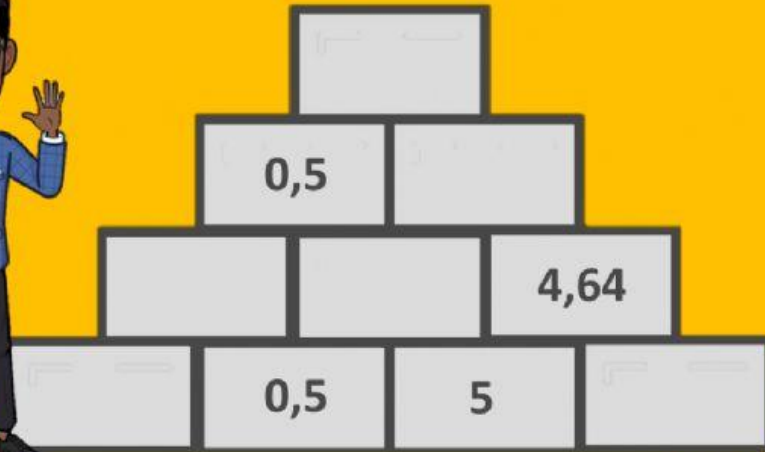




# PIRÁMIDE CON NÚMEROS DECIMALES

Encuentra los números que faltan en la pirámide.

Recuerda: el número de cada bloque es igual a la multiplicación de los números de los bloques que lo sostienen.



Guille Math   
0984576270 

 LIVEWORKSHEETS