













### Bài 3. Điền số thích hợp vào ô trống.

a) Số 34 gồm  chục và  đơn vị. b) Số 57 gồm  chục và  đơn vị.

c) Số 87 gồm  chục và  đơn vị. d) Số 51 gồm  chục và  đơn vị.

e) Số 25 gồm  chục và  đơn vị. f) Số 69 gồm  chục và  đơn vị.

### Bài 4. Nói?

2 chục và 5 đơn vị

71

9 chục và 3 đơn vị

19

1 chục và 9 đơn vị

49

4 chục và 9 đơn vị

93

7 chục và 1 đơn vị

25

### Bài 5. Điền số thích hợp vào ô trống.

