

Bangun Ruang Sisi Datar

Oleh : IIS AISYAH, S.Pd


SMPN SATAP 7 MAJA

MATEMATIKA

Nama / Kelas :


A. Input Video

Klik dan simak video berikut ini!



B. Input MP3

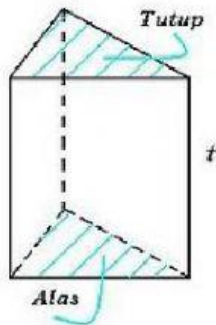
Klik MP3 dan dengarkan



Tulis benda yg berbentuk kubus dan balok yang ada dirumahmu di kotak yg tersedia di atas

C. Drop Down

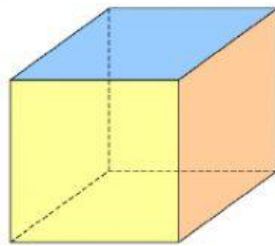
Gambar di bawah ini merupakan bangun ruang ...



D. Pilihan Ganda

Pilihlah pada salah satu jawaban yang benar

Nama bangun ruang di bawah ini adalah ...



☐ Kubus

☐ Balok

☐ Prisma

☐ Limas

E. Kontak Centang

Berilah tanda centang pada unsur-unsur balok yang benar

☐ Memiliki 12 rusuk

☐ Memiliki 8 sisi

☐ Memiliki 8 titik sudut

F. Menjodohkan dengan Garis

Tariklah garis dari huruf A/B (jumlah titik sudut) ke arah kotak pasangannya!

“ Limas segitiga ”

A. 6

“ Prisma segitiga ”

B. 4

G. Drag & Drop

Klik/sentuh pada kotak jumlah titik sudut/sisi/rusuk pada sebuah KUBUS, kemudian geser dan lepas di atas garis yang tersedia agar menjadi jawaban yang sesuai!

