









Mennyiségi viszonyok átalakítása arányokká

Olvasd el az alábbi helyzetet, és határozd meg a golyók arányát! Írd le az arányokat mind kettősponthall, mind tört formában.

Carlo golyókat gyűjt. A golyóinak különböző színűek. Van a gyűjteményében 10 piros golyó, 2 sárga golyó, 4 kék golyó, 3 zöld golyó, 9 szürke golyó, 6 rózsaszín golyó, 4 lila golyó és 1 barna golyó.

 Red Marbles	 Yellow Marbles	 Blue Marbles	 Green Marbles
 Gray Marbles	 Pink Marbles	 Purple Marbles	 Brown Marbles

Statement Form	a : b	tört alak a/b
a piros golyók és a kék golyók		
a szürke golyók és a sárga golyók		
a piros golyók és a zöld golyók		
a lila golyók és a rózsaszín golyók		
a barna golyók és a kék golyók		