

a) Số 84 gồm:

A. 8 và 4

B. 8 chục và 4 đơn vị

C. 4 chục và 8 đơn vị

D. 40 và 8

b) Số nào dưới đây gồm 5 chục và 2 đơn vị?

A. 50

B. 25

C. 2

D. 52

c) Số 75 gồm ?. chục?

A. 5

B. 7

C. 57

D. 75

d) Số 16 gồm ?. đơn vị?

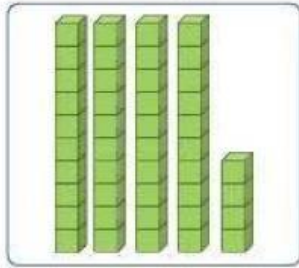
A. 6

B. 1


C. 10

D. 60

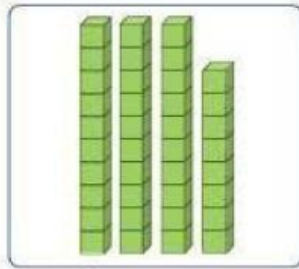
Bài 2. Điền số thích hợp vào ô trống.




chục đơn vị



chục đơn vị



chục đơn vị



chục đơn vị