

LKPD

SEGITIGA

Perhatikan video berikut ini!

YouTube



Yang merupakan bagian dari segitiga adalah



Sama kaki



Sembarang



Sama sisi



Sama samping

Segitiga mana yang memiliki ketiga sisinya sama panjang



Sama samping



Sembarang



Sama sisi



Sama kaki

Apa nama segitiga, jika memiliki sisi yang sama itu disebut

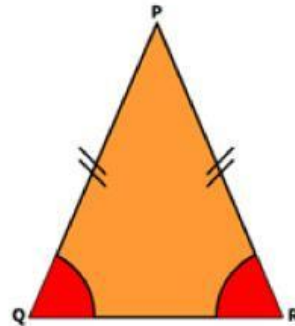
CARI YANG BERKAITAN DENGAN SEGITIGA

D	A	S	S	H	S	T
E	I	A	I	A	A	I
M	A	M	K	I	M	T
B	S	A	U	M	A	I
A	K	S	S	A	K	K
R	K	I	I	K	A	F
A	F	S	K	A	K	I
N	S	I	U	S	I	D
G	G	A	H	Y	T	K

Dengarkan suara berikut dan tuliskan jawabannya



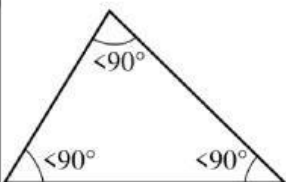
sebutkan segitiga berikut ini dengan tepat




Tarik garis untuk memasang bentuk segitiga dan nama segitiga di bawah ini!



Segitiga siku - siku



Segitiga sama kaki



Segitiga sama sisi

