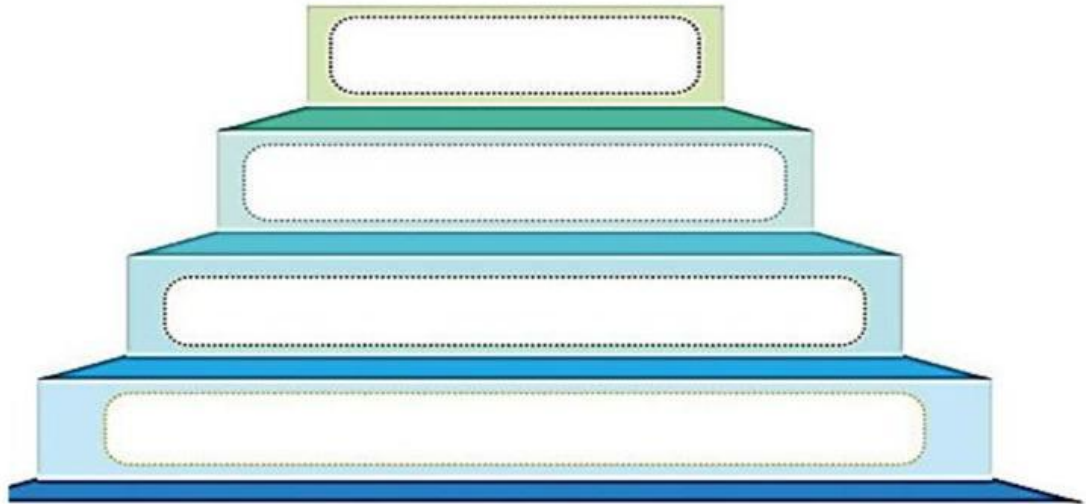





EXAMEN DEL TERCER TRIMESTRE
ÁREA: ESTUDIOS SOCIALES
QUINTO BÁSICO

1. Completa la pirámide con la organización política de los Señoríos Étnicos del Ecuador. (2 Ptos.)



2. Completa la información sobre la vestimenta de los grupos étnicos de cada región. (2 Ptos.)

Vestimenta		
 Región Sierra	 Región Costa	 Región Amazónica
	Mujeres: usan vestidos, faldas largas con blusas cortas, encaje y adornos.	
Hombres: utilizan pantalón simple, poncho, alpargatas y sombrero.		

3. Coloca el nombre a los siguientes personajes. (1.50 Ptos.)



4. Une con líneas los porcentajes correspondientes a la composición genética de la población del Ecuador. (2 Ptos.)

Amerindios

40 %

Otros

43 %

Afrodescendientes

10 %

Europeos

7 %

5. Escribe 3 evidencias del cambio climático. (1.50 Ptos.)

✓

✓

✓

6. Escribe quiénes fueron los protagonistas españoles de la conquista del Tahuantinsuyo. (1 Pto.)