

Nombre: \_\_\_\_\_ Calificación: \_\_\_\_\_

Fecha: \_\_\_\_\_ Grupo: \_\_\_\_\_ Aciertos: \_\_\_\_ / \_\_\_\_

**I. Lee las siguientes preguntas y subraya la respuesta correcta.****1. ¿Quiénes tienen necesidades básicas como alimentación y vestido?**

- a) Los seres humanos      b) El nomadismo      c) La prehistoria

**2. Es el cultivo de la Tierra:**

- a) ganadería      b) pesca      c) forestal

**3. Es la captura de peces y otras especies acuáticas:**

- a) ganadería      b) pesca      c) los elementos naturales

**4. Es la crianza de animales:**

- a) ganadería      b) pesca      c) forestal

**5. Es el mayor productor de maíz en el mundo:**

- a) Asia      b) EUA      c) China

**6. ¿En dónde se concentra mayor población?**

- a) En el pueblo      b) En las ciudades      c) En las costas

**7. ¿En dónde se proporcionan la mayor parte de los servicios como hospitales y escuelas?**

- a) En la ciudad      b) En el campo      c) En el océano

**8. ¿En dónde se concentra la menor población?**

- a) En la ciudad      b) En el campo      c) En las plazas

**9. ¿Cuál es el lugar en el mundo más industrializado?**

- a) América del norte      b) África      c) Italia

**10. ¿Qué tipo de productos se pueden encontrar en las ciudades?**

- a) Vacas lecheras      b) Enlatados      c) Leche bronca

**II. Escribe dentro del paréntesis la letra que corresponda.**

- |  |                          |
|--|--------------------------|
| ( ) Permiten satisfacer las necesidades de la población: | a) Oro                   |
| ( ) Es la extracción de minerales y energéticos:         | b) Minas subterráneas    |
| ( ) Se encuentran debajo de la superficie terrestre:     | c) Yacimientos marinos   |
| ( ) Es un ejemplo de un mineral:                         | d) La minería            |
| ( ) Se localizan en el fondo del mar:                    | e) Actividades primarias |

**III. Lee cuidadosamente y responde las siguientes preguntas:**

1. ¿El desarrollo de un país depende de su industria? ¿Por qué?

---

---

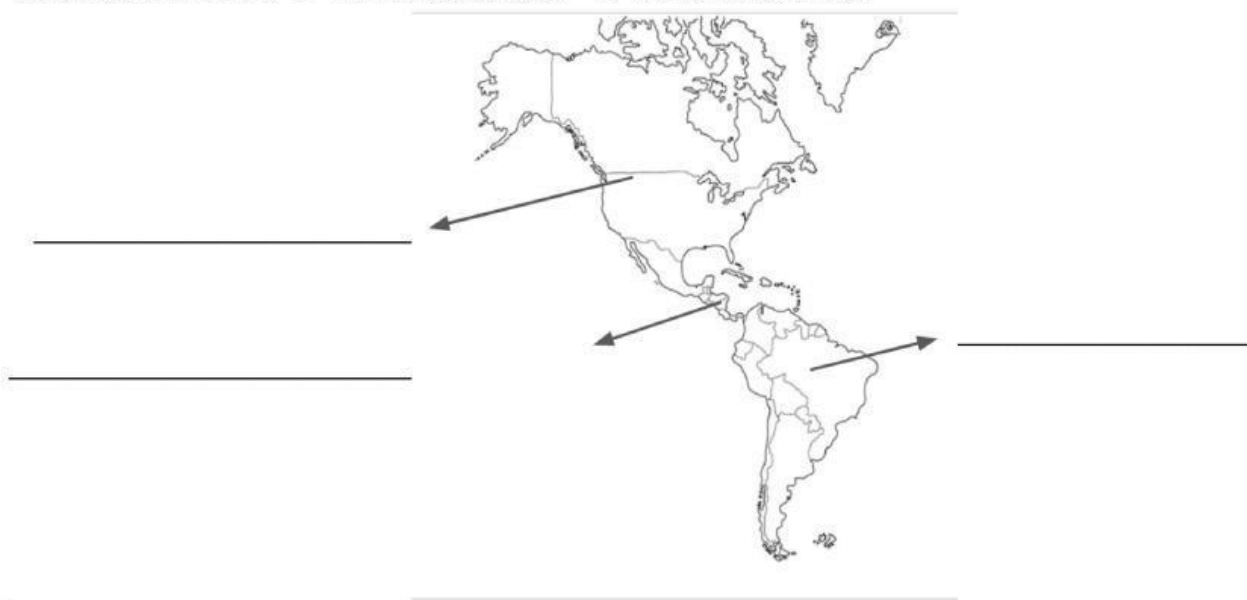
---

---



2. ¿A quién se le considera “Industria sin chimenea”?

---

**II. Observa el mapa y anota el nombre donde corresponda según su localización.**  
**América del Norte - América del Sur - América Central**



III. Observa las imágenes y escribe tres elementos de cada lugar.

	
1.	1.
2.	2.
3.	3.