






مدرسة الجابرية - قسم الكهرباء - LIVE WORKSHEET - دعم فئات الطلاب - مقرر كهرباء 801

اسم الطالب:-

الرقم الاكاديمي:-

شعبة: 6 كهرباء 1

In the table shown, **match** the picture with the appropriate words shown?

No	Words	Picture
1-	Mechanical Effect.	
2-	Lighting Effect	
3-	Heating Effect.	
4-	Chemical Effect.	
5-	Magnetic Effect.	

Teacher: AHMED SHAHIN

HEAD OF SECTION: REDA HADI

Assistant Manager : JAFFAR HAROON

HEAD MASTER: SAYED REDA