






مدرسة الجابرية - قسم الكهرباء - LIVE WORKSHEET - دعم فئات الطلاب - مقرر كهرباء 805

اسم الطالب:-

الرقم الاكاديمي:-

شعبة: 6 كهرباء 1

In the table shown, **match** the picture with the appropriate words shown?

No	Words	Picture
1-	Main switchboard	
2-	Sub-distribution switchboard	
3-	Distribution Board Or Final distribution switchboards	
4-	Kilo Watt Hour Meter	
5-	Molded Case Circuit Breaker (MCCB)	

Teacher: AHMED SHAHIN

HEAD OF SECTION: REDA HADI

Assistant Manager :- JAFFAR HAROON

HEAD MASTER: SAYED REDA