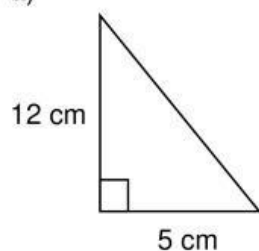


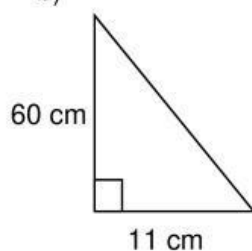
Actividades:

1) Completen la medida que falta en los siguientes triángulos rectángulos

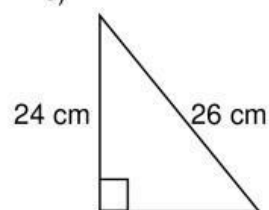
a)



b)



c)



2) Mediante el teorema de Pitágoras, decidan si los siguientes triángulos son triángulos rectángulos. (Marquen con una X la respuesta correcta)

Triángulo	Lado A	Lado B	Hipotenusa	¿Es triángulo rectángulo?	
				Sí	No
A	7	24	25		
B	9	12	15		
C	8	7	12		