


SIAP  
BELAJAR

Nama / Kelas :

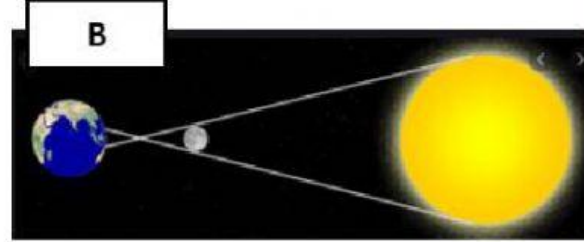
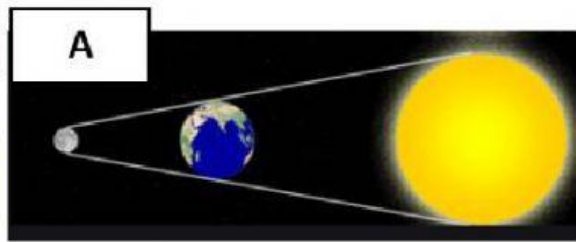
A. Simak Video Tentang Gerhana Matahari berikut  
dengan seksama



B. Simak rekaman berikut

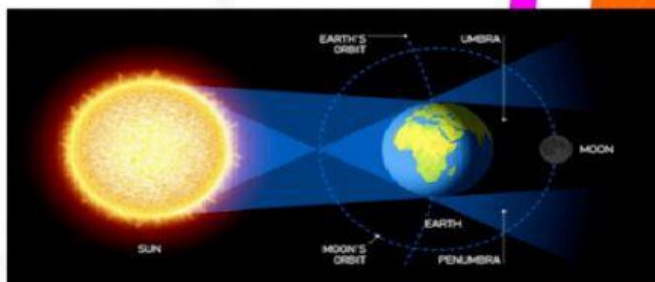


1. Gambar manakah yang merupakan gerhana matahari



JAWABAN :

2. Fenomena apakah yang terjadi pada gambar berikut!



A. Gerhana Bulan

B. Gerhana Matahari

C. Bulan mati

3. Manakah pernyataan berikut ini yang Benar

Gerhana adalah fenomena alam

Mengamati matahari secara langsung dapat membahayakan mata

Gerhana bulan terjadi jika posisi bulan berada di antara matahari dan bumi

4. Tariklah garis sesuai dengan pasangan yang tepat

**MATAHARI**

terjadi saat sebagian atau keseluruhan penampang Bulan tertutup oleh bayangan Bumi

**BULAN**

terjadi ketika bulan berada tidak tepat di tengah-tengah garis antara matahari dan bumi



5. Pasangkan gambar berikut ke urutan yang tepat  
Tentang gerhana matahari

